

- (1) "Provision to parents of giving education opportunity to their children having age 6 to 14 years ." The above section is added in which set of schedule 86 of Indian constitution under fundamental rights?
(A) Section -11 (B) Section - 2
(C) Section -86 (D) Section - 4
- (2) Who is the author of life sketch of Mahadevbhai Desai "Agnikund Mein Uga Hua Gulab"?
(A) Manbhatt (B) Narayan Desai
(C) Jayshankar Desai (D) Mahadev Desai
- (3) Who is the author of stanza "Harino Marag Che Shoorano"?
(A) Kavi Preetam Das (B) Manishankar Ratnajee Bhatta
(C) Damodar Khushal Botadkar (D) Narsinh Mehta
- (4) Function of Union of India is mentioned in which part of Indian Constitution?
(A) 6 (B) 4
(C) 5 (D) 2
- (5) Which Indian sportsperson won bronze in 51 kg category in World Boxing Championship?
(A) Sukhdev (B) Nishant Dave
(C) Husamuddin (D) Deepak Bhuriya
- (6) To encourage Indian people for independence movement which English newspaper has been started by Gandhiji in India first?
(A) Young India (B) Youth India
(C) Vartaman Bharat (D) Aandolan
- (7) In which age Himalayan Mountain Range formed?
(A) Satyug (age) (B) Archean age
(C) Jurassic age (D) Tertiary age
- (8) Stars of sky shine because of which effect of Science?
(A) Diffusion of Light (B) Refraction of light
(C) Diffraction of light (D) Division of light
- (9) What is the share of industries in gross national production in India?
(A) 25% (B) 29%
(C) 32% (D) 39%
- (10) In which part of Indian constitution, fundamental duties have been included?
(A) Part -3 (A) (B) Part -5 (A)
(C) Part - 4 (A) (D) Part - 6 (A)

- (11) Who was the first person to receive "Bharat Ratna" ?
(A) Dr. Rajendra Prasad (B) Dr. Sarvepalli Radhakrishnan
(C) Mahadevbhai Desai (D) Lalbahadur Shastri
- (12) In which of the following programmes interactive board is used?
(A) Pragya Abhigam (B) Bal Project
(C) Virtual Classroom (D) Gyankunj Project
- (13) Unique ID of how many digits is given to the students of a secondary school?
(A) 14 (B) 16
(C) 18 (D) 19
- (14) Education is a subject of which list in Indian Constitution ?
(A) Central List (B) State list
(C) Joint List (D) District list
- (15) In which organ, there is insulin production?
(A) Stomach (B) Pancreas
(C) Large intestine (D) Brain
- (16) In which country Hockey World Cup (Mens) - 2023 was organised?
(A) India (B) Japan
(C) France (D) Brazil
- (17) Where is the World's Biggest Mineral Oil Purification Plant?
(A) Jamnagar (B) Ankleshwar
(C) Digboi (D) Dehradun
- (18) How many leaves including holidays have been decided for Gujarat Secondary and Higher Secondary Schools for the year 2023-24 by Gujarat Secondary and Higher Secondary Education Board?
(A) 79 (B) 80
(C) 81 (D) 82
- (19) According to National Education Policy-2020, which institution has been authorized for monitoring of minimum commercial and quality standards followed by State/Central Schools?
(A) PARAKH (B) SWAYAM
(C) DIKSHA (D) SSSA
- (20) Up to which class education is expected in mother tongue in National Education Policy 2020?
(A) Class 6 (B) Class 8
(C) Class 10 (D) Class 5

- (21) If the syllabus is changed because of business and industries then this is considered as effect of which factors on educational objectives?
 (A) Cultural factors (B) Social factors
 (C) Economical factors (D) Ethical factors
- (22) "Without thinking on what a person is doing what he should do"? This thought is connected with which goals of education ?
 (A) Ethical goals (B) Goals of attaining knowledge
 (C) Goal of complete life (D) Goals of good use of free time
- (23) Objectives, syllabus, institutions and time limit if all of these are decided then this is considered as which form of education?
 (A) Informal (B) Formal
 (C) Illegal (D) Joint
- (24) Which program does not directly apply to Informal learning?
 (A) Knowledge of alphabets (B) Examination
 (C) Education of business (D) Deaddiction
- (25) Which of the following issues is not included in three issues of learning process?
 (A) Starting (B) Result
 (C) Process (D) Evaluation
- (26) Some children are introverts, some are extroverts, some are talkative and some of them are shy. This type of difference in children is known as -
 (A) Physical difference (B) Difference in personality
 (C) Difference in hobbies (D) Social difference
- (27) Which of the following is not included in different intelligence quotients ?
 (A) Intelligence Quotient (I.Q.) (B) Spiritual Quotient (S.Q.)
 (C) Regional Quotient (R.Q.) (D) Emotional Quotient (E.Q.)
- (28) Who has developed vocational interest modification?
 (A) McDougall (B) Strong
 (C) Morgan (D) Garrett
- (29) Which experiment is used to measure abilities/powers like Art, Music, Creativity in a person?
 (A) Attitude Criteria (B) Interest experiment
 (C) Zest/Rasa modification (D) Aptitude experiment
- (30) Which is not included in three types of internal processes in a class?
 (A) Teacher-Student Behaviour (B) Student-Material Behaviour
 (C) Teacher-Material Behaviour (D) Student-Student Behaviour

- (31) Which of the following is not included in commonly used three middle position statistical measures?
- (A) Mean (B) Median
(C) Mode (D) Midpoint
- (32) Which is different from the three tests of evaluation ?
- (A) Written (B) Oral
(C) Practical (D) Functional
- (33) With which of the following is spreadsheet related?
- (A) Microsoft Excel (B) Microsoft Powerpoint
(C) Microsoft Word (D) Access
- (34) Whose philosophy of education is shown in "Framing and Clading" ?
- (A) Gijubhai Badheka (B) Nanabhai Bhatt
(C) Taraben Modak (D) J. Krishnamurti
- (35) Education by productive labour, for productive labour, and can only be of productive labour"
- (A) Mahatma Gandhiji (B) Ravindranath Tagore
(C) Mr. Arvind (D) Swami Vivekananda
- (36) Which of the following principles is not included in principles of John Dewey?
- (A) Principle of utility (B) Principle of inclination
(C) Principle of labour (D) Principle of zest(rasa)
- (37) New India Literacy Program (NILP) has been started for illiterates of which age group?
- (A) 15 years and above (B) 15 years to 55 years
(C) 6 years to 14 years (D) 21 years to 65 years
- (38) Which is known as one nation one digital platform ?
- (A) PM eVIDYA (B) BISAG-N
(C) DIKSHA (D) Vande Gujarat Channel
- (39) Who talked about learning by senses ?
- (A) Dr. S. Radhakrishnan (B) Ravindranath Tagore
(C) Mahatma Gandhi (D) Maharishi Arvind
- (40) Who started learning by senses for special children?
- (A) Maria Montessory (B) Grace Fernold
(C) Jim Piaget (D) Ivan Pavlov

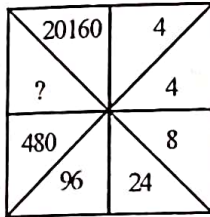
- (41) Which of the following pairs of psychologists associated with study is correct?
 (A) Trial and Error - Vygotsky (B) Behaviourism - Pavlov
 (C) Constructivism - Skinner (D) Conditioning by factors - Thorndike
- (42) Which of the following is not a characteristic learning process?
 (A) Experience is necessary for learning
 (B) Interaction with environment is necessary for learning
 (C) Learning can enter from one condition to the other
 (D) Memory is necessary for learning
- (43) Who gave Discovery learning approach ?
 (A) Robert Gagne (B) Jerome Brunner
 (C) Bandura (D) Ausubel
- (44) What will be the area of a circle having radius 14 cm? A formula is used by children to answer this question. Which intellectual skill he or she has obtained?
 (A) Differentiation (B) Concept
 (C) Rule (D) Solution of the problem
- (45) In which of the following disorders intellectual skill of children destroys?
 (A) Down Syndrome (B) ADHD
 (C) Cerebral Palsy (D) Autism
- (46) Which of the following will be on top level according to Bloom's Taxonomy?
 (A) Evaluation (B) Creation
 (C) Isolation (D) Utilization
- (47) Which of the following is unsuitable in achievement test ?
 (A) Sufficient time given to the students to answer all of the questions
 (B) Class is related with progress(development)
 (C) Education work is given at the end
 (D) Questions are selected to test the skills of a student
- (48) Which of the following measurements of middle position cannot be shown?
 (A) Mean (B) Extension
 (C) Median (D) Mode
- (49) Which of the following is not true for standard deviation (σ)?
 (A) Group Category will be as much as the low value of standard deviation
 (B) Standard deviation increases by the addition of any constant number in marks
 (C) If all the marks are multiplied by only one number then standard deviation increases at the same rate
 (D) Standard deviation is used to know the variability of the marks

- (50) Which of the following is not a characteristic of E-content?
 (A) These are only in digital format
 (B) It is presented by webpage or any other medium
 (C) It contains only animation
 (D) It can be linked with QR code.
- (51) Which of the following is not OER ?
 (A) BISAG - N
 (B) GROWER
 (C) NROER
 (D) e-pathshala
- (52) Which of the following subjects (issue) does not apply in the concept of E-learning?
 (A) Learning-Teaching is a present time field.
 (B) Learning has only one option.
 (C) Class learning is interesting
 (D) Information is available online.
- (53) Summary of which cannot be applied excepting its related groups. This is what type of modification?
 (A) Experimental modification
 (B) Survey
 (C) Basic Modification
 (D) Functional modification
- (54) "Children is creator of knowledge and not consumer." This is the conclusion of—
 (A) Behaviourism
 (B) Naturalism
 (C) Rationalism
 (D) Constructivism
- (55) Learning is a natural process and not manmade. Who gave this concept?
 (A) Aristotle
 (B) Rousseau
 (C) Froebel
 (D) Montessori
- (56) R, U, X, A, D, ? To complete the series what will replace the "?" question mark
 (A) F
 (B) G
 (C) H
 (D) I
- (57) 1, 3, 3, 6, 7, 9, 9, 12, 21, ? To complete the series what will replace the "?" question mark
 (A) 10
 (B) 11
 (C) 12
 (D) 13
- (58) 10, 100, 200, 310, ? To complete the series what will replace the "?" question mark
 (A) 400
 (B) 410
 (C) 420
 (D) 430
- (59) In a certain code TEACHER is written as VGCEJGT then in the same code CHILDREN can be written as?
 (A) EJKNEGTP
 (B) EGKNFITP
 (C) EJKNFGTO
 (D) EJKNFTGP
- (60) In a certain code TWENTY is written as 863985 and ELEVEN is written as 323039 then in the same code TWELVE can be shown by which number?
 (A) 863203
 (B) 863584
 (C) 863903
 (D) 863063

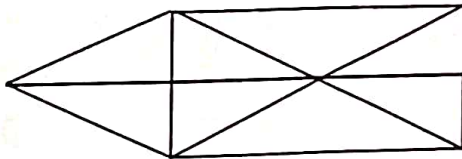
- (61) In a certain code language '123' means 'bright little boy' and 145 means 'tall big boy'. In the same way '637' means 'beautiful little flower' then which number will be there for 'bright'?
- (A) 1 (B) 2
(C) 3 (D) 4

- (62) If + means \times , \times means $-$, \div means $+$ and $-$ means \div then which of the following numbers will be the solution of $175 - 25 \div 5 + 20 \times 3 + 10$
- (A) 77 (B) 160
(C) 240 (D) 2370

- (63) Select the appropriate option for '?' in the following figure



- (A) 860 (B) 1140
(C) 2880 (D) 3240
- (64) How many triangles are there in the given figure?



- (A) 15 (B) 16 (C) 17 (D) 18
- (65) What will be the angle in degrees between minute and hour hand of a clock at 3:40?
- (A) 140 (B) 150 (C) 130 (D) 120

- (66) Select the odd pair:

- (A) Yoghurt - milk (B) Sandal - leather
(C) Peanut - oil (D) Sugar - sugarcane

- (67) Arrange the letters of the given word alphabetically.

(1) INTERANAL (2) INSECT (3) INCOME (4) INTERN (5) INSIDE

- (A) 3, 2, 5, 4, 1 (B) 3, 4, 5, 2, 1
(C) 4, 5, 1, 3, 2 (D) 3, 1, 2, 4, 5

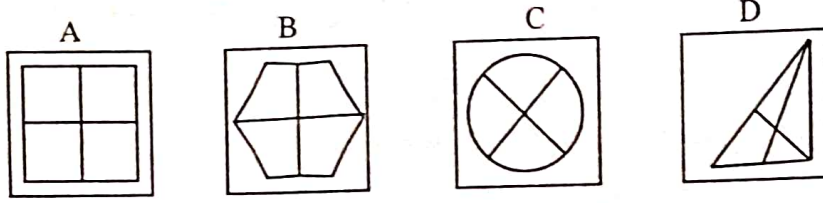
- (68) If first day of a leap year is Sunday then how many Sundays will be there in the same year?

- (A) 50 (B) 51 (C) 52 (D) 53

- (69) A person drives his car 50 km towards east after that he turns right and drives 30 km. Then he turns west and drives 10 km. How much away he is from the starting point?

- (A) 20 km (B) 50 km (C) 100 km (D) 60 km

(70) Select the different figure.



(A) A

(B) B

(C) C

(D) D

(71) અગ્નિનો સમાનાર્થી છે.

(A) અનલ

(B) અનિલ

(C) અનંગ

(D) તપસ

(72) નીચેનામાંથી કર્મધારેય સમાસનું ઉદાહરણ છે.

(A) તકસાધુ

(B) કલ્પવૃક્ષ

(C) પંચામૃત

(D) પરમેશ્વર

(73) તમારાથી વડીલો સામે ઊંચા અવાજે ન બોલાય. - વાક્યનો પ્રકાર ઓળખો.

(A) કર્તરિ

(B) કર્મણિ

(C) ભાવે

(D) પ્રેરક

(74) સફળતા જિંદગીની હસ્તરેખામાં નથી હોતી, ચણાયેલ ઈમારત એના નકશામાં નથી હોતી. આ કાવ્યનો પ્રકાર જણાવો.

(A) દુહા

(B) મુક્તક

(C) હાઈકુ

(D) સોનેટ

(75) ખોટી જોડણી કઈ છે ?

(A) સુદંડ

(B) દીકરી

(C) અકસ્માત્

(D) કનિષ્ઠ

(76) 'નીરવ' શબ્દનો વિરુદ્ધાર્થી શબ્દ શું થાય ?

(A) સૂમસામ

(B) ધવલ

(C) પીડા

(D) કોલાહલ

(77) સમાનાર્થી શબ્દોની ખોટી જોડ હોય તે વિકલ્પ કયો છે ?

(A) ખોભણ - ગુફા

(B) અનરવો - હિંમતવાન

(C) અડવડિયું - લથડિયું

(D) આર્દ્રતા - મૂઢતા

(78) 'ઘોડાના સવારને બેસવા માટે ઘોડાની પીઠ પર રાખવાનું રૂ કે ઊનનું આસન' - શબ્દસમૂહ માટેનો એક શબ્દ કયો છે?

(A) દળી

(B) ટેકણિયું

(C) પીઠિકા

(D) માંચડો

(79) વિરામચિહ્નોનો ઉચિત પ્રયોગ ન થયો હોય તેવું વાક્ય કયું છે ?

(A) હાશ ! હવે નિરાંત થઈ !

(B) પ્રશ્નપત્ર જોઈ વિદ્યાર્થીઓ મૂંઝાયા, એમને કાંઈ સૂઝ પડી નહીં, ઉત્તરપત્રો મૂકી દઈને ચલતી પકડી.

(C) મેં જાણ્યું : મારાં લખાણો એને ગમતાં નથી.

(D)તો મારો દુશ્મન છે.

(80) શબ્દ અને તેના અનેકાર્થી શબ્દોની ખોટી જોડ હોય તેવો વિકલ્પ કયો છે ?

(A) ગુણ - પણછ, દોરું

(B) કૂટ - ઠગાઈ, શિખર

(C) કાંત - મન, અંતઃકરણ

(D) કર - કિરણ, સુંઢ

(81) આપેલ વાક્યોમાં રેખાંકિત કરેલ શબ્દનો ઉચિત પ્રયોગ થયો હોય તેવું વાક્ય કયું છે ?

(A) મેં આ પત્ર કે ઠરાવ વાંચ્યા નથી.

(B) કામ વેળાસર થાય તે જ અગત્યનું છે.

(C) સાંજે છ વાગે જાહેર ગ્રંથાલય બંધ થાય છે.

(D) દરેકે આવકમાંથી યથાશક્તિ પ્રમાણે દાન કરવું જોઈએ.

- (82) 'दैव्यैશ્વર્ય' શબ્દનો સંધિવિગ્રહ શું થાય ?
 (A) દેવ + ઐશ્વર્ય
 (B) દેવે + ઐશ્વર્ય
 (C) દેવ્ય + ઐશ્વર્ય
 (D) દેવી + ઐશ્વર્ય
- (83) આપેલાં વાક્યોમાં 'કર્મણિ વાક્ય' કયું છે ?
 (A) એ સમયમાં લોકો જુગાર રમતા.
 (B) એણે પચાસ માણસોને જમાડ્યા.
 (C) સરકાર તરફથી આ મહિને અનાજ અપાયું છે.
 (D) અશોક કંઈ બોલ્યો ન હોત.
- (84) 'છત્રી પર નામ-સરનામું લખવાનો ઉપાય ખરેખર કારગત નીવડ્યો.' - વાક્યમાં રેખાંકિત કરેલ શબ્દ 'ખરેખર' ક્રિયાવિશેષણનો કયો પ્રકાર છે ?
 (A) અભિગમવાચી ક્રિયાવિશેષણ
 (B) સમયવાચક ક્રિયાવિશેષણ
 (C) રીતિવાચક ક્રિયાવિશેષણ
 (D) સ્થાનવાચક ક્રિયાવિશેષણ
- (85) 'મારો હંસલો નાનો ને દેવળ જૂનું રે થયું.' - અલંકાર ઓળખાવો.
 (A) વ્યક્તિરેક અલંકાર
 (B) અતિશયોક્તિ અલંકાર
 (C) રૂપક અલંકાર
 (D) ઉપમા અલંકાર
- (86) Mahesh was too smart. (Remove 'too' without changing the meaning.)
 (A) Mahesh was not smart at all.
 (B) Mahesh was smart more than required.
 (C) Mahesh was foolish.
 (D) I was doubtful whether Mahesh was smart or not.
- (87) INS Arihant is Indian Naval ship. (Fill in the blanks)
 (A) The & an
 (B) An & an
 (C) A & an
 (D) The & the
- (88) Most students have brought their homework. of them have not completed it yet.
 (A) None
 (B) Few
 (C) Each
 (D) A little
- (89) મેં મારા વાળ કપાવ્યા. - આ વાક્યનું ચોક્કસ અંગ્રેજી ભાષાંતર શું થશે ?
 (A) I cut my hair.
 (B) I clipped my hair.
 (C) I got my hair cut.
 (D) I had a nice hair cut.
- (90) Give the nearest meaning of word : 'Phantom'.
 (A) existent
 (B) imaginary
 (C) corporeal
 (D) tangible
- (91) Give the verb form of 'little'.
 (A) alittle
 (B) unlittle
 (C) belittle
 (D) bilittle

- (92) Change the voice : "What caused COVID-19 ?"
 (A) What was COVID-19 caused by ? (B) What was caused by COVID-19 ?
 (C) By what is COVID-19 caused ? (D) By what COVID-19 was caused ?
- (93) Select the word or phrase which is closest to the opposite in meaning of the underlined word : "Rahul will never accept your request."
 (A) turn over (B) turn down
 (C) turn up (D) reject
- (94) Add a suitable question tag : Radha, one of my neighbours slipped off a staircase. ?
 (A) did she (B) does she
 (C) doesn't she (D) didn't she
- (95) Fill in the blanks with appropriate set of prepositions : Nidhi travelled her mother all the world when she was 17 years old.
 (A) by, above (B) for, around
 (C) with, around (D) with, over
- (96) Turn this sentence into English : "હજી પણ હું તેને ત્યાં એકલી ઊભેલી જોઈ શકતો હતો."
 (A) I could still saw her standing there alone. (B) I could still see her stood there alone.
 (C) I could still see her standing there alone. (D) I can still see her standing there alone.
- (97) Fill in the blanks with the appropriate word / words : Rohan and Nayan have been on vacation May 2023. They to Manali for a week.
 (A) for, had gone (B) since, had gone
 (C) for, have gone (D) since, have gone
- (98) Mantra got the first prize last week. Find out the correct option to get the underlined answer.
 (A) Which prize did Mantra get last week ?
 (B) When did Mantra get the first prize ?
 (C) Which prize Mantra got last week ?
 (D) Where did Mantra get the first prize ?
- (99) Ravi in this company for five years. Find out correct form of verb from the options.
 (A) works (B) is working
 (C) has been working (D) have worked
- (100) Find out the correct spelling from the options.
 (A) Spactacular (B) Spectacular
 (C) Spactaculor (D) Specteculor

- (101) કોઈ પણ પ્રકારના ચિત્રમાં છાયાપ્રકાશની યોગ્ય અસર ઊભી કરવા માટે કયા ગ્રેડની પેન્સીલનો ઉપયોગ ઉત્તમ નિવડે છે ?
- (A) 2H (B) 6H
(C) 6B (D) HB
- (102) નીચેના પૈકી કયો રંગ વિશાળતા, અનંતતા અને ગંભીરતા દર્શાવે છે ?
- (A) લીલો રંગ (B) પીળો રંગ
(C) વાદળી રંગ (D) કાળો રંગ
- (103) ગુજરાતની સ્થાપત્ય કલાનો ઉત્કૃષ્ટ નમૂનો એવો રુદ્ર મહાલય કયા શહેરમાં આવેલો છે ?
- (A) અમદાવાદ (B) સિદ્ધપુર
(C) જૂનાગઢ (D) વડનગર
- (104) જે શિલ્પમાં આગળનો ભાગ કંડારીને (કોતરીને) ઉપસાવેલ હોય અને પૃષ્ઠભાગની રચના સપાટ હોય તેને કયા પ્રકારના શિલ્પ કહેવાય ?
- (A) મૂર્તિ (B) પૂર્ણમૂર્તિ શિલ્પ
(C) અંશમૂર્તિ શિલ્પ (D) સ્થાપત્ય
- (105) નીચેનામાંથી કયા સોફ્ટવેરની મદદ વડે ફોટો ઈમેજમાં એડિટીંગ ઈમેજ મીક્સીંગ, અન્ય ઈફેક્ટ સરળતાથી થઈ શકે છે ?
- (A) ફોટો શોપ (B) કોરલ ડ્રો
(C) પેઈન્ટ (D) પેજ મેકર
- (106) કયા કલાકારની વિવિધ કલાકૃતિઓમાં ભારતીય ઉપરાંત ઈટાલિયન અને ચાઈનીઝ કલા પદ્ધતિઓનો સૂમેળ જોવા મળે છે ?
- (A) જગન્નાથ અહિવાસી (B) રસીકલાલ પરીખ
(C) યજ્ઞેશ્વર શુક્લ (D) રમેશ પંડ્યા
- (107) 'સાગરબાળ', 'નવધાન્ય' અને 'બુધ્ધ-સુજાતા' કયા કલાકારની જાણીતી ચિત્રકૃતિઓ છે ?
- (A) રસીકલાલ પરીખ (B) સોમાલાલ શાહ
(C) કે. આર. યાદવ (D) નટુ પરીખ
- (108) કલાના શિક્ષણ માટે કયા પ્રસિદ્ધ કલાકારે દક્ષિણ ગુજરાતમાં અમલસાડ ખાતે કલાવિદ્યાલયની સ્થાપના કરી ?
- (A) રસીકલાલ પરીખ (B) જશુભાઈ નાયક
(C) હકુભાઈ શાહ (D) એન. એસ. બેન્દ્રે
- (109) સૌરાષ્ટ્ર અને કચ્છનું લોકજીવન અને સંસ્કૃતિ એ કયા કલાકારના મુખ્ય પ્રેરણાબળ બની રહ્યા છે ?
- (A) જશુભાઈ નાયક (B) ખોડિદાસ પરમાર
(C) નટુ પરીખ (D) રવિશંકર રાવળ
- (110) રવિશંકર રાવળને કયું ખાસ ઉપનામ / બિરુદ મળ્યું છે ?
- (A) આચાર્ય (B) 'ચકોર'
(C) ચિત્રકાર (D) ગુજરાતના કલાગુરુ

- (111) નીચેનામાંથી કયા રંગ સમૂહને આપણે સજાતીય રંગો કહીશું ?
 (A) લાલ - કેસરી - જાંબલી (B) કાળો - સફેદ
 (C) લીલો - લાલ - પીળો (D) મેઘધનુષના રંગો
- (112) વિજ્ઞાપન, પુસ્તક-કવર, પોસ્ટર વગેરેમાં મોટે ભાગે કયા પ્રકારની રંગયોજના ખાસ ઉપયોગમાં લેવાય છે ?
 (A) ઉષ્ણ રંગપદ્ધતિ (B) શીતરંગ પદ્ધતિ
 (C) વિજાતીય રંગયોજના (D) એકરંગીય રંગ યોજના
- (113) નીચેનામાંથી કયું ચિત્ર પરોક્ષ સમતોલનનું ઉદાહરણ કહી શકાય ?
 (A) તાજમહેલ (B) ચાની કિટલી
 (C) ઘડિયાળ (D) પીપળનું પાન
- (114) ચિત્રમાં અસીમ-અનંતતા દર્શાવવાની હોય તો તમે કયા રંગનો ઉપયોગ કરશો ?
 (A) પીળો (B) જાંબલી
 (C) વાદળી (D) લીલો
- (115) જો કોઈ ચિત્રમાં પીળા રંગની સાથે કયો રંગ પૂરીએ તો સજાતીય રંગ પદ્ધતિથી ચિત્ર બનેલ છે તેમ કહી શકાય.
 (A) કેસરી - લીલો (B) કેસરી - જાંબલી
 (C) જાંબલી - લીલો (D) કેસરી - વાદળી
- (116) બૌદ્ધના શાંત ભાવોનું દર્શન કરાવતું ચિત્ર કઈ ગુફામાં આવેલું છે ?
 (A) માર આકમણ (B) ચંપેક જાતક
 (C) અપ્સરા (D) પદ્મપાણિ
- (117) કઈ મસ્જિદ ભારતના સુંદર મસ્જિદોમાંની એક છે ?
 (A) સીદી સૈયદની ઝાળી (B) રાણી સિપ્રીની મસ્જિદ
 (C) જામા મસ્જિદ (D) સરખેજ મસ્જિદ
- (118) લઘુચિત્રોમાં મુખ્યત્વે બોધિસત્વ પ્રજ્ઞાપારમિતા અને કઈ કથાઓના ચિત્રો આલેખાયેલા છે ?
 (A) જૈન શૈલી (B) પૌરાણીક
 (C) જાતક (D) પાલ શૈલી
- (119) ચિત્ર દોરવા શેની જરૂર પડે છે ?
 (A) પરીકર (B) રેખા
 (C) કંપાસ પેટી (D) રબર
- (120) કઈ સીરીઝ (ગ્રેડ)ની પેન્સિલનો ઉપયોગ ઈજનેરી શાખાના વિદ્યાર્થીઓ કરે છે ?
 (A) B ગ્રેડ (B) H ગ્રેડ
 (C) K ગ્રેડ (D) 2b ગ્રેડ

- (121) સાવધાનમાં ઉભેલો વ્યક્તિ કઈ રેખાનું પ્રતિક છે ?
 (A) આડી રેખા (B) ત્રાસી રેખા
 (C) ઊભી રેખા (D) તુટક રેખા
- (122) વમળયુક્ત રેખા વડે કયું ચિત્ર દર્શાવી શકાય.
 (A) ઝાડ (B) સાપ
 (C) વિમાન (D) થાંભલો
- (123) કઈ શ્રેણીના રંગો મિશ્રણથી બનતા નથી.
 (A) તૃતીય શ્રેણી (B) દ્વિતીય શ્રેણી
 (C) પ્રથમ શ્રેણી (D) એક પણ નહીં
- (124) રેખા રંગ કે આકારનું એક દિશા કે ચારેય દિશામાં ફેલાઈ જવાને શું કહે છે ?
 (A) પુનરાંકન (B) વિસ્તરણ
 (C) સમતોલન (D) રંગ સંયોજન
- (125) માનવ સર્જીત આકાર (ચિત્ર) કયું ચિત્ર છે.
 (A) નેચર ચિત્ર (B) પદાર્થ ચિત્ર
 (C) ચિત્ર સંયોજન (D) ભાત ચિત્ર
- (126) કયા ચિત્રનો મુખ્ય ઉદ્દેશ સુશોભન છે ?
 (A) ભાત ચિત્ર (B) પદાર્થ ચિત્ર
 (C) કુદરતી ચિત્ર (D) મિશ્ર ચિત્ર
- (127) ચિત્ર કળાનું અતિ મહત્વનું અંગ કયું છે ?
 (A) રેખા (B) રંગ
 (C) આકાર (D) ફોટો
- (128) સૂર્ય પ્રકાશ ન પહોંચી શકે અને પડછાયો દેખાય તેને શું કહેવામાં આવે છે ?
 (A) પ્રકાશીય (B) છાયા
 (C) કાળાશ (D) અવકાશ
- (129) 100 રૂપિયાની નોટના પાછળના ભાગમાં કઈ વાવનું છાપકામ કરેલ છે ?
 (A) અડાલજની વાવ (B) દાદા હરિની વાવ
 (C) આશાપુરીની વાવ (D) રાણીકી વાવ
- (130) શ્રી સોમાલાલ શાહની જાણીતી કળાકૃતિ કઈ છે ?
 (A) સાગરબાળ (B) દેવયાની
 (C) શકુંતલા (D) ચાંદાપોળી
- (131) રંગના રાજા તરીકે કયા ચિત્રકાર ઓળખાય છે ?
 (A) શ્રી ખોડિદાસ પરમાર (B) શ્રી રવિશંકર રાવળ
 (C) શ્રી રસિકલાલ પરિખ (D) શ્રી સોમાલાલ શાહ


- (132) મોઢેરાનું સૂર્ય મંદિર એ કઈ કળા છે ?
 (A) પ્રાકૃતિક કલા
 (B) શિલ્પ કળા
 (C) ભાતચિત્ર કળા
 (D) ચિત્ર સંયોજન
- (133) 'શંકુતલા' ચિત્રના સર્જક કોણ હતા ?
 (A) શ્રી ખોડિદાસ પરમાર
 (B) શ્રી કનૈયાલાલ યાદવ
 (C) શ્રી છગનલાલ જાદવ
 (D) શ્રી રસિકલાલ પરીખ
- (134) ચિત્રકાર શ્રી જશુભાઈ નાયકનો જન્મ કયા જિલ્લામાં થયો હતો ?
 (A) સુરત
 (B) વડોદરા
 (C) વલસાડ
 (D) નવસારી
- (135) આ રંગો પારદર્શક છે.
 (A) પોસ્ટર કલર
 (B) વોટર કલર
 (C) પેસ્ટલ કલર
 (D) પેન્સીલ કલર
- (136) ચટણી રંગ બનાવવા કયાં કયાં રંગનો ઉપયોગ થાય છે ?
 (A) લીલો - વાદળી
 (B) લીલો - લાલ
 (C) કેસરી - લીલો
 (D) જાંબલી - પીળો
- (137) "પૂજારણો" ચિત્ર કયા ચિત્રકારે બનાવેલું છે ?
 (A) ખોડિદાસ પરમાર
 (B) સોમાલાલ શાહ
 (C) રસિકલાલ પારેખ
 (D) કનૈયાલાલ યાદવ
- (138) "કલા સાધના" ચિત્ર સંગ્રહ કયા ચિત્રકારે પ્રગટ કરેલ ?
 (A) રસિકલાલ ન. પરીખ
 (B) ખોડિદાસ પરમાર
 (C) પ્રતાપસિંહ જાડેજા
 (D) જશુભાઈ નાયક
- (139) ચિત્રોમાં કયા પ્રકારની રેખાઓની મદદ વડે ઝડપ અને ગતિનું આલેખન દર્શાવી શકાય છે ?
 (A) ત્રાંસી રેખાઓ
 (B) જાડી રેખાઓ
 (C) ગુણક રેખાઓ
 (D) ઊભી રેખાઓ
- (140) નીચેનામાંથી ગુજરાતનું કયું શહેર ચિત્રકારશ્રી પ્રતાપસિંહ જાડેજાની કર્મભૂમિ બની રહ્યું છે ?
 (A) વડોદરા
 (B) રાજકોટ
 (C) ભરૂચ
 (D) અમદાવાદ
- (141) ભારતીય લઘુચિત્રોની કઈ શૈલી પૂર્વભારત ઉપરાંત નેપાળ, તિબેટ સુધી વિસ્તરી હતી ?
 (A) જૈન શૈલી
 (B) રાજપૂત શૈલી
 (C) પાલ શૈલી
 (D) મેવાડ શૈલી

- (142) વિવિધ પહાડી શૈલીઓમાં કઈ વિષયવસ્તુનું આલેખન વ્યાપકપણે જોવા મળે છે ?
 (A) નિસર્ગ દર્શ્યો (B) દરબારી ઠાઠના દર્શ્યો
 (C) યુદ્ધના દર્શ્યો (D) શિકારના દર્શ્યો
- (143) પાલ શૈલીના લઘુચિત્રો મોટે ભાગે કયા સંપ્રદાય આધારિત વિષયવસ્તુ ધરાવે છે ?
 (A) ઇસ્લામિક (B) બૌદ્ધ
 (C) રાજપૂત (D) જૈન
- (144) નીચેનામાંથી કઈ કલા લલિતકલા તરીકે ઓળખાય છે ?
 (A) કેશગૂંફન (B) હસ્તકલા
 (C) સુથારીકામ (D) શિલ્પકલા
- (145) ગુજરાતમાં આવેલું કયું સ્થાપત્ય યુનેસ્કો દ્વારા વૈશ્વિક વારસા (વર્લ્ડ હેરિટેજ સાઈટ)માં સમાવેશ પામ્યું છે ?
 (A) અડાલજની વાવ (B) રાણીકી વાવ, પાટણ
 (C) મોઢેરા સૂર્ય મંદિર (D) સરખેજ રોજો
- (146) સ્થાપત્યકલાની દૃષ્ટિએ દેલવાડાના જૈન મંદિરો સાથે સામ્યતા ધરાવતું ગુજરાતનું કયું સ્થાપત્ય કહી શકાય ?
 (A) ચાંપાનેરનો કિલ્લો (B) કીર્તિ મંદિર, વડોદરા
 (C) રુદ્ર મહાલય (D) હઠીસિંહના દહેરા
- (147) મહિષાસુર મર્દિનીનું પ્રખ્યાત શિલ્પ નીચેનામાંથી કયા પ્રખ્યાત સ્થાપત્યમાં આવેલું છે ?
 (A) હઠીસિંહના દહેરા (B) રાણીકીવાવ, પાટણ
 (C) અડાલજની વાવ (D) દાદા હરિની વાવ
- (148) સમગ્ર ભારતીય કલાના ઇતિહાસમાં કયો યુગ સુવર્ણ યુગ મનાય છે ?
 (A) ગુપ્ત સમય (B) મધ્યયુગ
 (C) મૌર્ય કાળ (D) મુગલ કાળ
- (149) અજંતાની ગુફાઓ સૌ પ્રથમ કયા અંગ્રેજ અમલદારની નજરમાં આવી ? અને વિશ્વને તેમણે અજંતાનો પરિચય કરાવ્યો ?
 (A) જનરલ કર્નિંગહામ (B) જેમ્સ ફર્ગ્યુસન
 (C) લોર્ડ વેલેસ્લી (D) એચ.જી. વેલ્સ
- (150) સ્થાપત્યકલાની દૃષ્ટિએ અજંતાની ગુફાઓની રચનાઓ કયા પ્રકારની કહી શકાય ?
 (A) સ્તૂપો (B) દહેરાઓ
 (C) ગર્ભગૃહ (D) ચૈત્ય, વિહાર
- (151) ત્રિમૂર્તિનું પ્રખ્યાત ભવ્ય શિલ્પ નીચેનામાંથી કઈ ગુફામાં સર્જાયેલું છે ?
 (A) ઈલોરા (B) અજંતા
 (C) બાઘ (D) એલિફન્ટા

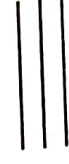
- (152) ઈલોરાની કઈ ગુફામાં ભગવાન નરસિંહ અને હિરણ્યકશ્યપ વચ્ચેના યુદ્ધનું વિરાટ શિલ્પ આવેલું છે ?
 (A) દશાવતાર ગુફા (B) દૂમર લેણ ગુફા
 (C) રાવણ કી ખાઈ ગુફા (D) ઈન્દ્રસભા ગુફા
- (153) એલિફન્ટાની ગુફાઓ ક્યાં આવેલી છે ?
 (A) ઔરંગાબાદ પાસે (B) મુંબઈના દરિયાકિનારાથી અંદર ધારાપૂરી ટાપુ ઉપર
 (C) મધ્યપ્રદેશ (D) બાઘના ખડકોમાં
- (154) ભારતમાં લઘુચિત્રોના ઉદયના સમયે, શરૂઆતની હસ્તપ્રતો શેની ઉપર કરવામાં આવી ?
 (A) કાપડ, સીલક (B) તાડપત્ર
 (C) કેનવાસ (D) કાગળ
- (155) કઈ શૈલીનો મુખ્ય વિષય માત્ર “કૃષ્ણભક્તિ” છે ?
 (A) પાલ (B) કાંગડા
 (C) રાજપૂત (D) મૌગલ
- (156) કલાત્મક આકાર આપીને તૈયાર કરવામાં આવેલ ભવનને શું કહેવાય છે ?
 (A) અંશ:મૂર્ત શિલ્પ (B) પૂર્ણમૂર્ત શિલ્પ
 (C) કૃતિ (D) સ્થાપત્ય
- (157) “શહિદોનું સ્મારક” એ કયા શિલ્પકારે બનાવેલું છે ?
 (A) શ્રી કાંતિભાઈ પટેલ (B) શ્રી દેવીપ્રસાદ રોય ચૌધરી
 (C) શ્રી રમેશભાઈ પંડ્યા (D) શ્રી પીરાજી સાગરા
- (158) અમૃતા શેરગીલનું જાણીતું ચિત્ર કયું છે ?
 (A) મૃત્યુનો દૂત (B) ખેડૂત કુટુંબ
 (C) ત્રણ બહેનો (D) લેખ્યા કન્યા
- (159) હઠિસીંગના દહેરા જિનાલય વાળું ધર્મનાથ ભગવાનનું વિશાળ જૈન મંદિર છે.
 (A) 50 (B) 51 (C) 52 (D) 54
- (160) યુનેસ્કો દ્વારા કયા સ્થાપત્યને વર્ષ 2004 માં વર્લ્ડ હેરિટેજ સાઈટમાં સ્થાન મળેલ છે.
 (A) ચાંપાનેરના સ્થાપત્યને (B) હડીસીંગના દહેરા
 (C) રાણી સીપ્રીની મસ્જિદ (D) સરખેજનો રોજો
- (161) અજંતામાં કેટલા પ્રકારની ગુફા આવેલી છે ?
 (A) ચાર (B) ત્રણ (C) બે (D) પાંચ
- (162) મોલારામ કઈ શૈલીનો શ્રેષ્ઠ ચિત્રકાર છે ?
 (A) કાંગડા (B) રાજસ્થાન (C) પાલ (D) મૌગલ

- (163) કઈ શૈલીના ચિત્રોમાં ચિત્રકારને મુક્ત અભિવ્યક્તિનો બિલકૂલ અવકાશ નથી ?
 (A) પાલ (B) રાજપૂત (C) જૈન (D) મોગલ
- (164) ઊભા રહેવાની ત્રિભંગ શૈલી ચિત્રમાં શું જન્માવે છે ?
 (A) લય (B) અડગતા (C) ગતિ (D) અવ્યવસ્થા
- (165) ચૈત્ય ગુફાઓ એટલે
 (A) નિવાસ અને અધ્યયન કરવાનું સ્થળ (B) મુક્તવિહાર કરવાનું સ્થળ
 (C) પ્રાર્થના અને ઉપાસના કરવાનું સ્થળ (D) આરામ કરવાનું સ્થળ
- (166) અંજતાની ગુફાઓ કઈ નદીના કિનારે આવેલી છે ?
 (A) યમુના (B) ભિમા (C) ગોદાવરી (D) વાધોરા
- (167) AIL નું પૂરું નામ શું છે ?
 (A) Activity Innovation Learning (B) Activity base Innovative Learning
 (C) Art Integrated Learning (D) Art Innovation Learning
- (168) બંગાળ સ્કૂલ ઓફ આર્ટના સ્થાપક કોણ હતા ?
 (A) અવનિદ્રનાથ ટાગોર (B) રવિન્દ્રનાથ ટાગોર
 (C) નંદલાલ બોઝ (D) જેમિનિ રોય
- (169) કયા સ્થાપત્યને “અમદાવાદનું રતન” પણ કહેવામાં આવે છે ?
 (A) સરખેજનો રોજો (B) સીદી સૈયદની જાળી
 (C) હઠીસીંગના દેરા (D) રાણી સીપ્રીની મસ્જિદ
- (170) શ્રી પીરાજી સાગરા ચિત્રકારને ઈ.સ. 2004 માં કયો એવોર્ડ મળ્યો હતો.
 (A) રાષ્ટ્રિય લલિતકલા અકાદમીના લાઈફ ટાઈમ એચીવમેન્ટ
 (B) પદ્મશ્રી
 (C) ગૌરવ પુરસ્કાર
 (D) નેશનલ એવોર્ડ
- (171) જો તમે પદાર્થ ચિત્રમાં છાયાપ્રકાશ દર્શાવતા હોય ત્યારે કોઈ ભાગને વધુ ડાર્ક દર્શાવવાનો હોય તો તમે કઈ પેન્સિલનો ઉપયોગ કરશો.
 (A) 6B (B) H (C) 2H (D) B
- (172) જો કોઈ ચિત્રમાં ધ્વનિ કંપન દર્શાવવાનું હોય તો કઈ રેખાથી દર્શાવવું પડે.
 (A) ગુણક (B) તૂટક (C) વમળ (D) ત્રાંસી
- (173) વિદ્યાર્થીઓને ચિત્રકલાનું શિક્ષણ આપવા માટે ચિત્રકલાના કેટલા મુખ્ય તત્વોથી પરિચિત કરાવવા પડે.
 (A) 3 (B) 6 (C) 5 (D) 4

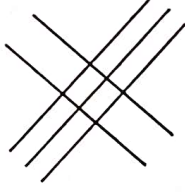
(174) નીચેનામાંથી કયું ચિત્ર ગુણક રેખા દર્શાવે છે.




(B)



(C)



(D)



(175) રંગ સ્વભાવે વિનમ્ર છે.

(A) સફેદ

(B) વાદળી

(C) લીલો

(D) જાંબલી

(176) વિદ્યાર્થીઓને ભાતચિત્ર શિખવવા માટે ભાતચિત્રના કેટલા પ્રકાર શિખવવા પડે ?

(A) ચાર

(B) ત્રણ

(C) પાંચ

(D) છ

(177) કોઈ એક ચિત્રમાં પ્રકાશની ગેરહાજરી દર્શાવવી હોય તો તમે વિદ્યાર્થીઓને કયો રંગ પૂરવાનું કહેશો ?

(A) કાળો

(B) જાંબલી

(C) વાદળી

(D) સફેદ

(178) નીચેનામાંથી કયું વિધાન યોગ્ય ક્રમમાં ગોઠવાયેલ છે ?

(A) આકાર, છાયા-પ્રકાશ, રેખા, રંગ

(B) રેખા, છાયા-પ્રકાશ, આકાર, રંગ

(C) રેખા, આકાર, રંગ, છાયા-પ્રકાશ

(D) આકાર, રંગ, છાયા-પ્રકાશ, રેખા

(179) નીચેનામાંથી કયું ચિત્ર કલા ગુરુશ્રી રવિશંકર રાવળનું નથી ?

(A) યક્ષકાંતા

(B) અખો

(C) મુંજાલ

(D) યમ-નચિકેતા

(180) 'ચકોર' તરીકે કયા ચિત્રકાર જાણીતા છે.

(A) રસિકલાલ પારેખ

(B) યજ્ઞેશ્વર શુક્લ

(C) બંસીલાલ વર્મા

(D) કનૈયાલાલ યાદવ

(181) ઈતિહાસના કોઈ એક એકમનું શિક્ષણ કાર્ય સાદી રીતે વિદ્યાર્થીઓને સમજાવું હોય તો કઈ પદ્ધતિ શ્રેષ્ઠ છે ?

(A) હસ્તકલા

(B) સંગીતકલા

(C) ચિત્રકલા

(D) નાટ્યકલા

(182) વિદ્યાર્થીઓને લેન્ડસ્કેપ બનાવવા માટેની સમજણ આપવાની હોય તો કઈ પદ્ધતિ શ્રેષ્ઠ છે ?

(A) કથન

(B) નિદર્શન

(C) શ્રવણ

(D) શ્રવણ - કથન

(183) બેઝિક ડિઝાઈનમાં "Use of line" નું શિક્ષણ કાર્ય કરાવવાનું હોય તો નીચેનામાંથી કયો મુદ્દો "Use of line" નો નથી ?

(A) Contrast

(B) Calligraphy

(C) Form of line

(D) Study of line

(184) વાર્ષિક ઉત્સવ માટે વિદ્યાર્થીઓને નાટક તૈયાર કરાવવાનું હોય તો નાટકના કુલ કેટલા અંગોની તૈયારી કરાવવી પડે ?

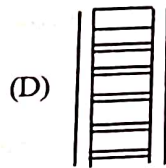


(A) 4

(B) 5

(C) 7

(D) 6

- (185) ભારતીય લઘુચિત્રકળામાં મોટેભાગે કયા પ્રકારના રંગ માધ્યમનો ઉપયોગ થયો છે ?
 (A) તેલરંગી માધ્યમ (B) પ્રાકૃતિક રંગો અને ગુંદર
 (C) એકેલિક રંગો (D) કાળી શાહી અને ગેરૂ
- (186) ભાતચિત્રનો મુખ્ય ઉદ્દેશ કયો છે ?
 (A) કારીગરી (B) ગોઠવણી
 (C) સુશોભન (D) રંગ-સંયોજન
- (187) કઈ કૃતિ અવનિદ્રનાથ ટાગોરની મહત્વની કૃતિમાંથી એક છે ?
 (A) આલમગીર (B) મધર ઈન્ડિયા
 (C) સખી (D) અભિજિત
- (188) “મોનાલિસા” એ કયા જાણીતા ચિત્રકારનું ચિત્ર છે ?
 (A) માઈકલ એન્જલ (B) વીંચી
 (C) રફાએલ (D) સસ્ટાઈન એપલ
- (189) “I will paint a picture of light in this room” આ વિધાન કયા ચિત્રકારે કહેલું છે ?
 (A) વર્મિયર (B) રેમ્બ્રા (C) પાઉઝી (D) ઓન્દ્રે યોઝો
- (190) રાજ્ય પરીક્ષા બોર્ડ, ગુજરાત દ્વારા માધ્યમિક ચિત્રકામ પરીક્ષા કેટલા અને કયા કયા વિષયની લેવામાં આવે છે ?
 (A) 3 વિષય : માનવ સર્જિત પદાર્થ, નેચર ચિત્ર સંયોજન
 (B) 4 વિષય : માનવ સર્જિત પદાર્થ, નેચર, ભાતચિત્ર, ચિત્ર સંયોજન
 (C) 4 વિષય : માનવ સર્જિત પદાર્થ, ભાતચિત્ર, ચિત્ર સંયોજન, અક્ષર લેખન
 (D) 3 વિષય : ભાતચિત્ર, ચિત્ર સંયોજન, અક્ષર લેખન
- (191) નીચે આપેલ ચિત્રોમાંથી કયું ચિત્ર યથાર્થ દર્શનને વધુ સ્પષ્ટ કરે છે ?

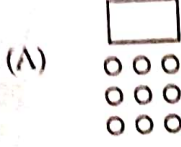


- (192) એટલે ચિત્રમાં મુકાતાં પાત્રોની યોગ્ય અને કલાત્મક ગૂંથણ કે ગોઠવણી.
 (A) ભાતચિત્ર (B) પદાર્થ ચિત્ર
 (C) પ્રકૃતિ ચિત્ર (D) ચિત્ર સંયોજન

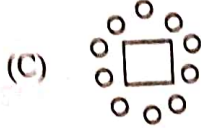

(193) વર્ગખંડમાં પદાર્થ ચિત્ર વિદ્યાર્થીઓ પાસે દોરાવવા માટે કઈ બેઠક વ્યવસ્થા શ્રેષ્ઠ કહેવાય.

□ = પદાર્થ

○ = વિદ્યાર્થીઓ



(B)



(D)



- (194) તમે રાજ દરબારનું ચિત્ર બનાવતા હોય અને તેમાં દરબારી ઠાઠ દર્શાવવો હોય તો કયા રંગથી દર્શાવી શકાશે ?
 (A) લાલ (B) વાદળી (C) કેસરી (D) જાંબલી
- (195) તમે સાડીના પાલવની ડિઝાઈન બનાવતા હોય અને તેમાં કોઈ એક આકાર વારંવાર વાપરવામાં આવે તો તે કયો સિદ્ધાંત કહેવાય.
 (A) પુનરાંકન (B) વિસ્તરણ
 (C) બિન્દુમાંથી વિસ્તરણ (D) સમતોલન
- (196) અજંતાની ગુફામાં આવેલ ચિત્રો કઈ પદ્ધતિથી બનાવવામાં આવ્યાં છે ?
 (A) શેડો (B) ફેસ્કો (C) સ્ટોક (D) લીનોકટ
- (197) પો. 1-2 ના બાળકો પાસે રંગકામ કરાવવાનું હોય તો કયા રંગો વધુ અનુકૂળ રહે ?
 (A) વોટર (B) કેયોન (C) પોસ્ટર (D) સ્કેચપેન
- (198) લાકડાં કે તેના જેવી વસ્તુની સપાટ સમતલ સપાટી પર કોતરીને તૈયાર કરેલી આકૃતિ ઉપર શાહી લગાડી જે છાપ લેવાય તેને શું કહેવાય ?
 (A) ઝેરોક્ષ કોપી (B) ગ્રાફીક્સ પ્રિન્ટ (C) છાપકોપી (D) ફોટો કોપી
- (199) ગુજરાતમાં લલિત કલા અકાદમી દર વર્ષે કલાકારો, વિદ્યાર્થીઓ માટે વાર્ષિક શું યોજે છે ?
 (A) સન્માન પ્રવાસ (B) કલા પ્રદર્શન (C) ફોટોગ્રાફી (D) સ્લાઈડ શો
- (200) નિસ્તેજના અને નિષ્ક્રિયતા દર્શાવવા કઈ રેખાઓ વાપરવા બાળકોને શિખવશો ?
 (A) તૂટક રેખા (B) ત્રાંસી રેખા (C) આડી રેખા (D) ઊભી રેખા

