

ECONOMICS

(Gujarati Medium)

કેટેગરી

A

પરીક્ષાર્થીનો બેઠક ક્રમાંક

--	--	--	--	--	--	--	--	--	--

પરીક્ષાનો બ્લોક નંબર

--

પરીક્ષાર્થીની સહી

--

બ્લોક સુપરવાઈઝરની સહી

--

પરીક્ષાર્થીઓ માટે અગત્યની સૂચનાઓ

- તમને કહેવામાં ન આવે ત્યાં સુધી પ્રશ્ન પુસ્તિકા ખોલવી નહીં.
- પરીક્ષા દરમ્યાન પરીક્ષાર્થી પાસેથી કોઈ પણ સાહિત્ય ગાઈડ, માર્ગદર્શિકા, કાપલી, સ્લીપો, અન્ય હસ્ત લિખિત કે પ્રિન્ટેડ સાહિત્ય, મોબાઈલ ફોન, કેલક્યુલેટર, સ્પાય કેમરા, હેડ ફોન કે અન્ય વીજાણું ઉપકરણો હોવાનું જણાશે તો પરીક્ષાર્થીને ગેરલાયક ગણવામાં આવશે.
- ચાલુ પરીક્ષા દરમ્યાન અંદરોઅંદર વાતચીત કરવી, અવાજ કરવો કે સુપરવાઈઝરની સૂચનાઓનું ઉલ્લંઘન કરવું તે ગેરશિસ્ત ગણાશે.
- પ્રશ્નપત્ર મળે કે તરત જ ઉત્તરપત્ર (OMR SHEET) માં નિયત કરેલ જગ્યાએ પોતાનો બેઠક નંબર સ્વચ્છ અક્ષરે લખવો.
- ઉત્તરપત્ર (OMR SHEET) માં નિશ્ચિત જગ્યા સિવાય પરીક્ષાર્થીએ પોતાનો બેઠક ક્રમાંક લખવો નહીં તથા પોતાની આગવી ઓળખ છતી થાય તેવી નામ સહિતની અન્ય કોઈ પણ પ્રકારની નિશાની કરવાની સખ્ત મનાઈ છે. તેમ છતાં પણ કોઈ પણ નિશાની કે ઓળખ માલૂમ પડશે તો તેને સંપૂર્ણ ગેરશિસ્ત ગણવામાં આવશે અને પરીક્ષા માટે ગેરલાયક ગણવામાં આવશે.
- ઉત્તરપત્ર (OMR SHEET) ના પ્રમાણપત્રમાં પરીક્ષાર્થી તથા સુપરવાઈઝર બંનેની સહી ફરજિયાત છે. બંનેની સહી વિનાના ઉત્તરપત્ર (OMR SHEET) નું મુલ્યાંકન થશે નહીં. જેથી ઉમેદવારે સુપરવાઈઝરશ્રીની સહી અવશ્ય મેળવી લેવી.
- પરીક્ષાર્થીએ બ્લ્યુ/બ્લેક બોલપોઈન્ટ પેનનો ઉપયોગ કરી શકાશે. અન્ય શાહી કે પેન કે પેન્સિલ તથા સફેદ શાહીનો ઉપયોગ કરી શકશે નહીં.
- પ્રશ્નપત્રમાં આપેલ વિકલ્પોમાં કોઈપણ પ્રકારની નિશાની કરવી નહીં.
- આ કસોટી પત્રમાં કુલ -200 પ્રશ્નો છે. પ્રત્યેક પ્રશ્નનો ઉત્તર A, B, C અને D પૈકી કોઈ એક છે. દરેક પ્રશ્ન માટે ચાર વિકલ્પો આપવામાં આવેલ છે. તમારે બધા જ પ્રશ્નોના ઉત્તર આપવાના છે.
ઉદાહરણ તરીકે : ગુજરાતનું પાટનગર કયું છે ?
(A) અમદાવાદ (B) ગાંધીનગર (C) વડનગર (D) પાટણ
અહીં જવાબ (B) ગાંધીનગર જવાબ સાચો હોય, OMR SHEET માં વિકલ્પ (B) નું વર્તુળ ઘૂંટવાનું (Encode) કરવાનું થાય.
A ● C D
- પ્રત્યેક સાચા જવાબદીઠ 1 (એક) ગુણ મળવાપત્ર થશે. પ્રત્યેક ખોટા ઉત્તર માટે 0.25 ગુણ કપાશે (નેગેટીવ 0.25) જો ઉમેદવાર કોઈ પ્રશ્નનો ઉત્તર આપવા માંગતા ન હોય તો વિકલ્પ E પસંદ કરવાનો રહેશે. વિકલ્પ E માટે નેગેટીવ ગુણ રહેશે નહીં.
- છેકછાકવાળા જવાબ તથા એકથી વધારે વિકલ્પમાં આપેલ જવાબ તથા બ્લેડ કે રબ્બર કે વાઈટનર (સફેદ શાહી) નો ઉપયોગ કરી બદલાવેલ જવાબ માટે 0.25 નેગેટીવ ગુણ મળશે.
- પરીક્ષા પૂરી થયા બાદ ઉત્તરપત્ર (OMR SHEET) બ્લોક સુપરવાઈઝરને પરત કર્યા બાદ વર્ગખંડ છોડવાનો રહેશે. તેમ કરવામાં કસૂર થયેથી શિસ્ત ભંગના પગલાં ગણી પરીક્ષા માટે જે તે ઉમેદવારને ગેરલાયક ઠેરવવામાં આવશે.
- આ પરીક્ષાનો સમય 180 મિનિટનો છે.
- સૌથી યોગ્ય વિકલ્પ જવાબ તરીકે ધ્યાને લેવાશે.

રફ કામ માટેનું પેઈજ

- (1) 'સંવિધાનને વફાદાર રહેવાની અને તેના આદર્શો અને સંસ્થાઓના રાષ્ટ્રધ્વજનો અને રાષ્ટ્રગીતનો આદર કરવાની જોગવાઈ ભારતના સંવિધાનની કઈ કલમમાં દર્શાવવામાં આવી છે ?'
- (A) 51. ક (ક) (B) 51. ક (છ) (C) 51. ક (ડ) (D) 51. ક (ગ)
- (2) ભારતીય સંવિધાનના ભાગ-4માં 'રાજનીતિના માર્ગદર્શક સિદ્ધાંતો' ની જોગવાઈ કઈ કલમથી ક્યાં સુધીની કલમમાં કરવામાં આવેલ છે ?
- (A) 36 થી 45 (B) 35 થી 48 (C) 34 થી 50 (D) 36 થી 51
- (3) દરિયાના જળનું ઘનત્વ (Density) વધતું જાય છે, તેમ તેમ.....
- (A) ઉંડાણ અને ખારાશ ઘટે છે. (B) ઉંડાણ વધે છે અને ખારાશ ઘટે છે.
(C) ઉંડાણ ઘટે છે અને ખારાશ વધે છે. (D) ઉંડાણ અને ખારાશ વધે છે.
- (4) ભારતની પ્રાચીનતમ ક્રુટબોલ ટૂર્નામેન્ટ કઈ છે ?
- (A) સંતોષ ટ્રાફી (B) ડૂરંડ કપ
(C) રોવર્સ કપ (D) આઈ. એફ. એ. શીલ્ડ
- (5) હડપ્પા સંસ્કૃતિના પ્રમુખ સ્થળ 'લોથલ'ની શોધ કોણે કરી હતી ?
- (A) વી.ડી. શર્મા (B) યજ્ઞદત્ત શર્મા
(C) એસ. આર. રાવ (D) પ્રો. સુરજભાન
- (6) વધારે મેહસુલ પ્રાપ્તિ માટે કરવેરા ઉઘરાવવાના સંદર્ભમાં વિકાસના હેતુથી કયા કાળને પ્રમુખ માનવામાં આવે છે ?
- (A) મોર્યકાળ (B) ઉત્તર વૈદિકકાળ
(C) ગુપ્તકાળ (D) છઠ્ઠી શતાબ્દિ ઈસ્વી. પૂર્વ
- (7) પ્રાથમિક શિક્ષણમાં પ્રવેશ માટે લંબાવેલી મુદત, શાળાના શૈક્ષણિક વર્ષ શરૂ થયાથી કેટલા મહિના સુધીની રહેશે ?
- (A) 5 મહિના (B) 3 મહિના (C) 9 મહિના (D) 6 મહિના
- (8) રાષ્ટ્રીય શિક્ષણનીતિ-2020 માં સામાજિક અને આર્થિક રીતે પછાત વિસ્તારો માટે વિદ્યાર્થીઓ અને શિક્ષકનો રેશિયો કેટલો નિર્ધારિત કરેલ છે ?
- (A) 30:1 (B) 35:1 (C) 25:1 (D) 20:1
- (9) રાષ્ટ્રીય શિક્ષણનીતિ-2020માં નેશનલ ક્યુરીક્યુલમ ફ્રેમવર્કને કેટલા વર્ષમાં રીવાઈઝ્ડ અને અદ્યતન રાખવાની ભલામણ કરવામાં આવેલ છે ?
- (A) પાંચ વર્ષ (B) ત્રણ વર્ષ (C) આઠ વર્ષ (D) પ્રતિવર્ષ
- (10) 'જ્યાં સુધી માતૃભાષા (ગુજરાતી)ને હું ઉચ્ચ સ્થાન પર નહીં મૂકું ત્યાં સુધી હું પાઘડી નહીં બાંધું' એવું કોણે કહ્યું હતું ?
- (A) કવિ પ્રેમાનંદ (B) કવિ નર્મદ (C) કવિ કલાપી (D) કવિ સુન્દરમ્
- (11) 'વિશ્વ વસતી દિન' ક્યારે ઉજવવામાં આવે છે ?
- (A) 11 ઓગસ્ટ (B) 11 ઓક્ટોબર (C) 11 જૂન (D) 11 જુલાઈ
- (12) આગામી ઓલીમ્પીક કઈ જગ્યાએ યોજનાર છે ?
- (A) જાપાન (ટોક્યો) (B) ચીન (શાંઘાઈ)
(C) ફ્રાન્સ (પેરીસ) (D) ઈંગ્લેન્ડ (લંડન)

- (13) નવી ખાનગી માધ્યમિક શાળાની મંજૂરી કોણ આપે છે ?
 (A) જિલ્લાશિક્ષણાધિકારી (B) નિયામક, શાળાઓની કચેરી
 (C) શિક્ષણ સચિવ - શિક્ષણ વિભાગ (D) ગુજરાત માધ્યમિક અને ઉ.મા. શિક્ષણ બોર્ડ
- (14) 'મારે ટોડલે બેઠો રે મોર' ગીતને કોણે ચિરસ્મરણીય કર્યું ?
 (A) દમયંતી બરડાઈ (B) મીનાબેન પટેલ
 (C) દિવાળીબેન ભીલ (D) ગીતાબેન રબારી
- (15) ભારતનું કયું નગર 'સિલિકોન વેલી' તરીકે જાણીતું બન્યું છે ?
 (A) દિલ્લી (B) મુંબઈ (C) કલકત્તા (D) બેંગલુરુ
- (16) હાલમાં ગુજરાતમાં વર્લ્ડ બેંકના વડા તેમજ અમેરિકાના ટ્રેઝરી સેક્રેટરીએ નીચે પૈકી કઈ શૈક્ષણિક સંસ્થાની મુલાકાત લીધી હતી ?
 (A) જી.સી.ઈ.આર.ટી. (B) વિદ્યા સમીક્ષા કેન્દ્ર
 (C) ગુજરાત યુનિવર્સિટી (D) આયુર્વેદ યુનિવર્સિટી
- (17) દૂરવર્તી શિક્ષણમાં અભ્યાસ કેવી રીતે થઈ શકે ?
 (A) કોલેજ ગ્રંથાલયમાં છપાયેલી અધ્યયન સામગ્રી દ્વારા
 (B) જ્યાં રહેતા હોય ત્યાં માધ્યમો દ્વારા તથા છપાયેલી અધ્યયન સામગ્રી દ્વારા
 (C) કોલેજમાં અધ્યયનની વિવિધ પદ્ધતિઓ દ્વારા
 (D) કોલેજમાં હાજરી આપ્યા સિવાય સ્વપ્રયત્નો દ્વારા
- (18) 'શિક્ષણમાં સંપૂર્ણ ગુણવત્તા વ્યવસ્થાપન' પુસ્તકના લેખક કોણ છે ?
 (A) પ્રો. યશપાલ (B) ડૉ. ગુણવંત શાહ
 (C) પ્રો. મર્મર મુખોપાધ્યાય (D) ડૉ. ભદ્રાયુ વચ્છરાજાની
- (19) કેન્દ્ર સરકાર દ્વારા શરૂ કરવામાં આવેલી 'વિદ્યાંજલિ' યોજના શાના માટે છે ?
 (A) વાંચન વિકસાવવા માટેની યોજના
 (B) શાળા પુસ્તકાલય સમૃદ્ધ બનાવવા પુસ્તક દાન માટેની યોજના
 (C) શાળાની વિવિધ શૈક્ષણિક પ્રક્રિયામાં રસ ધરાવતાં સમાજના વ્યક્તિઓ માટે શિક્ષણ દાન માટેની યોજના
 (D) નબળા બાળકોને દત્તક લઈ સઘન શિક્ષણ આપવાની યોજના
- (20) 21 મી સદીના પડકારોને પહોંચી વળવા માટે ડેલોર્સ રિપોર્ટ Learning The Treasure within માં શિક્ષણના કયા બે સ્તંભનો ઉલ્લેખ કર્યો છે ?
 (i) ટકાઉ વિકાસ પ્રાપ્ત કરતાં શીખવું.
 (ii) શાંતિપૂર્ણ સહઅસ્તિત્વ સિદ્ધ કરતાં શીખવું.
 (iii) શીખતાં શીખવું
 (iv) સહજીવન શીખવું
 (A) i, ii (B) i, iii (C) iii, iv (D) ii, iii
- (21) કયું લક્ષણ અવૈધિક શિક્ષણનું છે ?
 (A) પરીક્ષા અને સર્ટિફિકેટનું મહત્ત્વ (B) શીખવનારની ઉચ્ચ લાયકાત
 (C) બાળકમાં જીવન-કૌશલ્યોનો વિકાસ કરવાનો ઉદ્દેશ (D) સાક્ષરતા કરતાં આજીવિકાલક્ષી શિક્ષણ પર ભાર

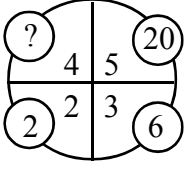
- (22) વર્ગ-શિક્ષણ દરમિયાન આદર્શવાદી શિક્ષક નીચેના પૈકી કઈ પદ્ધતિનો ઉપયોગ નહીં કરે ?
 (A) આગમન (B) ચર્ચા-સંવાદ (C) પ્રશ્નોત્તરી (D) પ્રવચન
- (23) ગાંધીજીએ આપેલી શિક્ષણની વ્યાખ્યામાં શિક્ષણનું કયું ધ્યેય પ્રગટ થાય છે ?
 (A) વ્યક્તિલક્ષી (B) સામાજિક (C) વિશિષ્ટ (D) આધ્યાત્મિક
- (24) “બાળક એ કંઈ પ્રૌઢની લઘુ આવૃત્તિ નથી.” - આ ગૃહીત/ધારણા કોણે રજૂ કરી ?
 (A) ડ્યૂઈ (B) રૂસો (C) પ્લેટો (D) સોક્રેટીસ
- (25) શિક્ષણના ત્રણ ‘વાદ’ અને તેમાં સ્વીકૃત થયેલા વિદ્યાર્થીના સ્વરૂપ અંગેના ખ્યાલોને યોગ્ય રીતે જોડો :
 1. આદર્શવાદ અ. સામાજિક સ્વરૂપ
 2. પ્રકૃતિવાદ બ. આત્મિક સ્વરૂપ
 3. વ્યવહારવાદ ક. શારીરિક સ્વરૂપ
 સાચો વિકલ્પ પસંદ કરો.
 (A) 1-બ, 2-અ, 3-ક, (B) 1-અ, 2-ક, 3-બ,
 (C) 1-ક, 2-બ, 3-અ, (D) 2-બ, 2-ક, 3-અ,
- (26) “વાસ્તવના સ્વરૂપનું તાર્કિક અન્વેષણ એ તત્ત્વજ્ઞાન છે.” - આ વ્યાખ્યા કોણે આપી છે ?
 (A) ડૉ. રાધાકૃષ્ણાન્ (B) મહર્ષિ અરવિંદ
 (C) રવિન્દ્રનાથ ટાગોર (D) જે. કૃષ્ણમૂર્તિ
- (27) નીચેનામાંથી કઈ પ્રક્રિયા - સાચી રીતે આગળ વધે છે ?
 (A) તત્ત્વજ્ઞાન - શિક્ષણ ઉદ્દેશો - પાઠ્યક્રમ - અભ્યાસક્રમ
 (B) તત્ત્વજ્ઞાન - શિક્ષણ ઉદ્દેશો - અભ્યાસક્રમ - પાઠ્યક્રમ
 (C) શિક્ષણ ઉદ્દેશો - તત્ત્વજ્ઞાન - અભ્યાસક્રમ - પાઠ્યક્રમ
 (D) પાઠ્યક્રમ - અભ્યાસક્રમ - તત્ત્વજ્ઞાન - શિક્ષણ ઉદ્દેશો
- (28) “વિદ્યાર્થીમાં રહેલા સદ્અંશો, સદ્વૃત્તિઓ અને સુરુચિઓ જાગૃત કરવાનું, વિકસાવવાનું અને યોગ્ય માર્ગે વાળવાનું કામ કેળવણીનું છે ?” - આ વિચાર કોણે આપ્યો ?
 (A) વિનોબાજી (B) નાનાભાઈ ભટ્ટ
 (C) ગાંધીજી (D) શ્રી અરવિંદ
- (29) શિક્ષણની કઈ વિચારધારામાં વસ્તુ કરતાં વિચારને વધુ મહત્ત્વ આપવામાં આવે છે ?
 (A) પ્રકૃતિવાદ (B) આદર્શવાદ
 (C) વ્યવહારવાદ (D) અસ્તિત્વવાદ
- (30) વ્યવહારવાદ અનુસાર શિક્ષણ આપવાના હેતુઓ સંદર્ભે કયો હેતુ યોગ્ય નથી ?
 (A) બાળક અનુભવ મળતા જ નવા પ્રકારના જ્ઞાનનું સર્જન કરે છે.
 (B) બાળકમાં સર્જનાત્મક શક્તિનો વિકાસ કરવો જોઈએ.
 (C) બાળકનો આધ્યાત્મિક વિકાસ કરવો જોઈએ.
 (D) બાળકને સમસ્યા ઉકેલ રીતથી વાકેફ કરવો જોઈએ.

- (31) સમગ્ર જીવનની અગીયાર અવસ્થાઓ પૈકી નીચે આપેલી અવસ્થાઓને ક્રમાનુસાર ગોઠવો.
 (A) બાલ્યાવસ્થા
 (B) વૃદ્ધાવસ્થા
 (C) પ્રારંભિક પુખ્તાવસ્થા
 (D) મધ્યવય
 (E) પ્રારંભિક બાલ્યાવસ્થા
 (A) E, A, B, C, D (B) A, E, C, D, B (C) A, E, D, C, B (D) A, E, B, C, D
- (32) અધ્યાપન મનોવિજ્ઞાન
- (A) વાતાવરણની દેન છે.
 (B) વારસો અને વાતાવરણની વચ્ચેની આંતરક્રિયાનું પરિણામ છે.
 (C) વારસાનું અસરનું પરિણામ છે.
 (D) જે મનોવિજ્ઞાનના સિદ્ધાંતોના ઉપયોગ દ્વારા અધ્યયનની પ્રક્રિયાની સુધારણા માટે સિદ્ધાંતો અને નિયમો આપે છે.
- (33) અહં - આદર્શની રચના એ કઈ અવસ્થા દરમિયાન વ્યક્તિત્વ વિકાસનું લક્ષણ છે ?
 (A) તુરુણાવસ્થા (B) પ્રારંભિક બાલ્યાવસ્થા (C) ઉત્તર - બાલ્યાવસ્થા (D) વૃદ્ધાવસ્થા
- (34) સિદ્ધાંતો અને તેના જનકનાં સાચાં જોડકાં બનાવો.
 1) બહુ અવયવ સિદ્ધાંત a) ગોલમેન
 2) સાંવેગિક બુદ્ધિ સિદ્ધાંત b) સ્ટર્નબર્ગ
 3) બહુવિધબુદ્ધિ સિદ્ધાંત c) થર્સ્ટન
 4) ત્રિ-સ્વરૂપિય બુદ્ધિસિદ્ધાંત d) ગાર્ડનર
 (A) 1) c, 2) a, 3) d, 4) b (B) 1) a, 2) c, 3) b, 4) d
 (C) 1) d, 2) c, 3) b, 4) a (D) 1) a, 2) b, 3) d, 4) c
- (35) શૈક્ષણિક મનોવિજ્ઞાનનું જ્ઞાન ધરાવતા શિક્ષક...
 1) વિદ્યાર્થીની કક્ષાને અનુરૂપ અધ્યાપનની તૈયારી કરે છે.
 2) યોગ્ય ઝડપે આગળ વધે છે.
 3) શિક્ષક દ્વારા રજૂ થતું વિષયવસ્તુ વિદ્યાર્થીની ક્ષમતાને અનુરૂપ હોય છે.
 (A) (1) અને (2) સાચાં છે. (B) (2) અને (3) સાચાં છે.
 (C) (1), (2) અને (3) સાચાં છે. (D) (1) અને (3) સાચાં છે.
- (36) અધ્યયનના નિયમો (Laws of Learning) સંદર્ભે નીચે પૈકી કયો નિયમ લાગુ પડતો નથી ?
 (A) અસરનો નિયમ (B) પુનરાવર્તનનો નિયમ (C) ભૂલનો નિયમ (D) તત્પરતાનો નિયમ
- (37) કઈ અધ્યયન પદ્ધતિ દ્વારા વિદ્યાર્થીઓ 'કઈ રીતે શીખવું' તે શીખે છે ?
 (A) પ્રયત્ન અને ભૂલ (B) કારક અભિસંધાન
 (C) ઈરણ ઘટાડાનો સિદ્ધાંત (D) અન્વેષણાત્મક અધ્યયન
- (38) 'પોતાના દોષો બીજામાં જોવાનો પ્રયત્ન કરવો.' - આ કયા પ્રકારની બચાવ પ્રયુક્તિ છે ?
 (A) પ્રક્ષેપણ (B) દમન (C) સ્થગિતતા (D) પ્રાયશ્ચિત

- (39) એરિક એરિકશનના મતે વ્યક્તિત્વ પર અસર કરતાં પરિબળો પૈકી નીચેનામાંથી કયું લાગુ પડતું નથી ?
 (A) અહમ્ (B) સામાજિકતા (C) સંસ્કૃતિ (D) આનુવંશિકતા
- (40) નીચેના પૈકી કઈ બાબત શાસ્ત્રીય અભિસંધાન માટે લાગુ પડતી નથી ?
 (A) પાવલોવે કૂતરા પર પ્રયોગો કરી આ અભિસંધાનનો સિદ્ધાંત આપ્યો.
 (B) આ અભિસંધાનમાં ઉદ્દીપક હોવો જરૂરી છે.
 (C) આ અનુસંધાન R પ્રકારનું અભિસંધાન પણ કહેવાય છે.
 (D) મુખ્ય ઉદ્દીપક સાથે ગૌણ ઉદ્દીપક મૂકવામાં આવે છે.
- (41) વ્યક્તિને કોઈ વસ્તુ, અન્ય વ્યક્તિ કે પ્રવૃત્તિ પર ધ્યાન આપવા માટે પ્રેરિત કરતી શક્તિ એટલે શું ?
 (A) પ્રેરણા (B) બુદ્ધિ
 (C) રસ (અભિરુચિ) (D) અભિયોગ્યતા
- (42) અધ્યયન પ્રક્રિયાની સમજ પ્રયોગો દ્વારા આપનારમાં નીચેના પૈકી કોનો સમાવેશ થતો નથી ?
 (A) પાવલોવ (B) સ્કીનર (C) સ્ટ્રોંગ (D) થોર્નડાઈક
- (43) ગણિતમાં નિષ્ફળ જનાર વ્યક્તિ જ્યારે ચિત્રકામમાં પ્રાવીણ્ય મેળવીને સિદ્ધિ હાંસલ કરે તો તેને કઈ બચાવપ્રયુક્તિ કહેવાય ?
 (A) યૌક્તિકીકરણ (B) પ્રક્ષેપણ
 (C) ઊર્ધ્વીકરણ (D) ક્ષતિપૂર્તિ
- (44) મેદ પ્રધાન અને સ્નાયુ પ્રધાન એવા વ્યક્તિત્વના પ્રકારો કયા મનોવૈજ્ઞાનિકે રજૂ કર્યા છે ?
 (A) શેલ્ડન (B) ટર્મેન (C) યુંગ (D) કેશમર
- (45) 1927માં પાંચ વિભાગમાં તૈયાર થયેલ રસસંશોધનિકાના રચયિતા મનોવૈજ્ઞાનિક કોણ હતા ?
 (A) કુડર (B) થર્સ્ટન (C) સ્ટ્રોંગ (D) ગીલફર્ડ
- (46) ગુજરાતમાં 1960 માં યાંત્રિક અભિયોગ્યતા કસોટી કોણે પ્રમાણિત કરી હતી ?
 (A) ડૉ. કે.જી. દેસાઈ (B) ડૉ. જે. સી. પરીખ
 (C) પ્રો. ટી. પી. લેલે (D) ડૉ. આર. બી. નાયક
- (47) બેન્જમિન બ્લૂમે રજૂ કરેલ મૂલ્યાંકન ત્રિકોણમાં કઈ બાબત સમાવિષ્ટ નથી ?
 (A) સાહિત્ય નિર્માણ (B) અધ્યાપન અનુભવો
 (C) શિક્ષણના હેતુઓ (D) મૂલ્યાંકન
- (48) નીચેના પૈકી કયું ક્રિયાત્મક કસોટીનું લક્ષણ છે ?
 (A) બોલ્યા વગર જવાબ આપી શકાય નહિ.
 (B) મૂલ્યાંકન સામૂહિક રીતે હાથ ધરી શકાય.
 (C) જ્ઞાન, સમજ, ઉપયોજન અને કૌશલ્યોનું માપન થઈ શકે છે.
 (D) અનૌપચારિક રીતે હાથ ધરાય છે.
- (49) $Z = 3M - \bar{X}$ આ સૂત્ર દ્વારા શું શોધી શકાય છે ?
 (A) મધ્યક (B) વિચલન (C) મધ્યસ્થ (D) બહુલક

- (50) આંકડાશાસ્ત્રની દૃષ્ટિએ નીચેમાંથી કઈ માહિતી એ પ્રાથમિક માહિતી નથી.
- (A) સંશોધક દ્વારા સૌ પ્રથમ વખત અસલ સ્વરૂપે એકઠી કરાયેલ હોય તેવી માહિતી.
 (B) નેશનલ સેમ્પલ સર્વે ઓર્ગેનાઈઝેશન દ્વારા એકત્રિત કરાયેલ હોય તેવી ભારતની વસ્તી ગણતરીની માહિતી.
 (C) ભારતના રજિસ્ટ્રાર ઓફિસ, ન્યુ દિલ્લી દ્વારા મૃત્યુદર અને જન્મદરને લગતી પ્રકાશિત માહિતી.
 (D) ભારતની વસ્તી ગણતરીની માહતી જે U.N. Statistical Abstract માં પ્રકાશિત કરવામાં આવેલ હોય.
- (51) એક વર્ગખંડમાં નીચે મુજબની પ્રવૃત્તિઓ થતી જોવા મળે છે.
1. શિક્ષક વિદ્યાર્થીઓ સમક્ષ સાતત્યપૂર્ણ રીતે વિવિધ ઊદાહરણો રજૂ કરે છે.
 2. શિક્ષક વિદ્યાર્થીઓને પોતાના દ્વારા રજૂ થયેલ ઊદાહરણો પરથી સામાન્ય સિદ્ધાંત તારવવાનું કહે છે.
- ઉપરોક્ત બે પ્રવૃત્તિઓને જોતા આપને શિક્ષણના કયા અભિગમનો ઉપયોગ થયેલ જોવા મળે છે.
- (A) આગમન અભિગમ (B) નિગમન અભિગમ
 (C) સમસ્યા ઊકેલ અભિગમ (D) પૂછપરછ અભિગમ
- (52) શિક્ષણમાં વિવિધ અભ્યાસક્રમો ટેકનોલોજીના માધ્યમથી વિદ્યાર્થીઓ સુધી પહોચાડવામાં ઉપયોગમાં આવતું પ્લેટફોર્મ DIKSHA એટલે ...
- (A) Digital Infrastructure for Knowledge Sharing (B) Digital Initiative for Knowledge Sharing
 (C) Digital Interactive for Knowledge Sharing (D) Digital Interface for Knowledge Sharing
- (53) ધોરણ - 11 અને ધોરણ - 12 ના NCERT આધારિત અભ્યાસક્રમ માટે SWAYAM MOOCS ના જુદાં જુદાં ઓનલાઈન કોર્સનું નિર્માણ થયેલ છે. MOOC ને નીચેનામાંથી કયા નામથી ઓળખવામાં આવે છે ?
- (A) Module open online courses (B) Massive open online courses
 (C) Mathematics open online courses (D) Management open online courses
- (54) બ્લુમ ટેક્સોનોમીના મુખ્ય ત્રણ સૂત્રોમાં નીચેનામાંથી કયા મુખ્યક્ષેત્રનો સમાવેશ થતો નથી ?
- (A) જ્ઞાનાત્મક (Cognitive) (B) ભાવાત્મક (Affective)
 (C) ક્રિયાત્મક (Psychomotor) (D) અનુભવાત્મક (Experiential)
- (55) રચનાત્મક મૂલ્યાંકનના સંદર્ભમાં નીચેનામાંથી શું સાચું નથી.
- (A) રચનાત્મક મૂલ્યાંકન એ વર્ગખંડ શિક્ષણનો એકભાગ છે.
 (B) રચનાત્મક મૂલ્યાંકન શિખવાની પ્રક્રિયા પર ભાર મૂકે છે.
 (C) રચનાત્મક મૂલ્યાંકન માટે અવલોકન, પ્રશ્નોત્તરી, વર્કસીટ, પ્રોજેક્ટ જેવી પદ્ધતિઓનો ઉપયોગ થાય છે.
 (D) રચનાત્મક મૂલ્યાંકન નિર્ધારિત પાઠ્યક્રમને ઉપયોગ કરીને ઔપચારિક રીતે કરવામાં આવે છે.
- (56) પાંચ લાકડી A, B, C, D અને S છે. A, B થી નાની પણ S થી લાંબી છે. C તેમાં સૌથી લાંબી છે. D, B થી થોડી નાની અને A થી થોડી મોટી છે. લાકડીને લંબાઈના ઉતરતા ક્રમમાં ગોઠવતાં ચોથા ક્રમે કઈ લાકડી આવશે ?
- (A) A (B) B (C) S (D) D
- (57) P, Q, R, S, T, V, W અને Z કેન્દ્ર તરફ મોં રાખીને ગોળાકાર ટેબલની આજુબાજુ બેઠા છે. દરેક ઉપરના ક્રમમાં બેઠા નથી. S, P ની જમણે ત્રીજા સ્થાને છે. P, V ની જમણે બીજા સ્થાને છે. R, V ની ડાબી બાજુ બીજા સ્થાને અને Q ની જમણે ત્રીજા સ્થાને છે. W, V ની સામે બેઠો છે. Z, T ની જમણે બીજા સ્થાને છે. તો T ની ડાબે પ્રથમ સ્થાને કોણ બેઠું છે ?
- (A) V (B) R (C) P (D) Q

(58) નીચેની આકૃતિમાં પ્રશ્નાર્થ ચિહ્નની જગ્યાએ શું આવે ?



- (A) 12 (B) 10 (C) 14 (D) 16

(59) વ્યક્તિ A પૂર્વ દિશામાં 6 મીટર ચાલે છે ત્યાંથી ઉત્તર દિશામાં 8 મીટર ચાલે છે. ત્યાંથી નૈઋત્ય દિશામાં 12 મીટર ચાલે છે તો વ્યક્તિ મૂળબિંદુથી કેટલો દૂર હશે ?

- (A) 10 મીટર (B) 2 મીટર (C) 26 મીટર (D) 4 મીટર

(60) શ્રેણી પૂર્ણ કરો.

4, 8, 9, 27, 16, 64, 25?.....

- (A) 101 (B) 98 (C) 100 (D) 125

(61) આપેલ શબ્દોને અંગ્રેજી મૂળાક્ષરોનાં ક્રમ પ્રમાણે ગોઠવો.

(1) TEACHER

(2) TRAINEE

(3) TUTION

(4) TUTORIAL

(5) TRAILER

- (A) 1, 2, 5, 3, 4 (B) 1, 5, 2, 4, 3 (C) 1, 5, 2, 3, 4 (D) 1, 2, 5, 4, 3

(62) નીચે આપેલ શ્રેણી પૂર્ણ કરો.

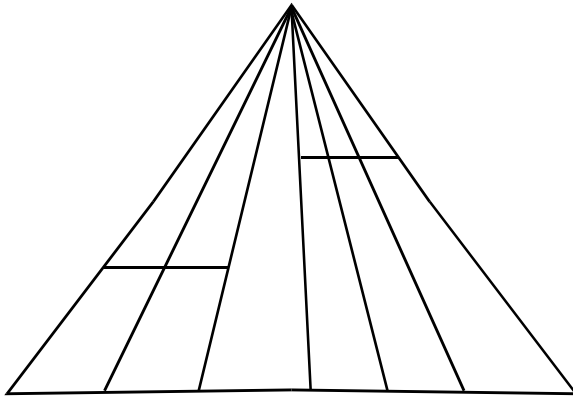
1, 2, 10, 37,?.....

- (A) 61 (B) 47 (C) 64 (D) 101

(63) આજે સોમવાર છે. 62 દિવસ પછી કયો વાર આવશે ?

- (A) શનિવાર (B) રવિવાર (C) મંગળવાર (D) બુધવાર

(64) આકૃતિમાં કેટલા ત્રિકોણ છે ?



- (A) 21 (B) 24 (C) 27 (D) 28

(65) એક વ્યક્તિ પૂર્વ દિશા તરફ મોં રાખીને ઊભો છે. તે 90° ના ખૂણે ઘડિયાળના કાંટાની વિરુદ્ધ દિશામાં ફરે છે. ફરી પાછો ઘડિયાળના કાંટાની દિશામાં 45° ફરે છે. ત્યાંથી પાછો ઘડિયાળના કાંટાની દિશામાં 180° ફરે છે. ત્યાર બાદ ઘડિયાળના કાંટાની વિરુદ્ધ દિશામાં 270° ફરે છે. તો હવે તે કઈ દિશામાં મોં રાખીને ઊભો હશે ?

- (A) ઉત્તર - પશ્ચિમ (B) પશ્ચિમ - દક્ષિણ
(C) દક્ષિણ - પૂર્વ (D) ઉત્તર - પૂર્વ

(66) ફૂલ : પાંદડી

નીચેના પૈકી યોગ્ય જૂથ શોધો જે ઉપરના જૂથને રજૂ કરે.

- (A) બોલ : બેટ (B) ટાયર : સાઈકલ
(C) પેન્સીલ : નોટ (D) આખડિયો : વેલણ

(67) રાજેશ ખૂબ મોટા મોલમાંથી કેટલીક વસ્તુ ખરીદીને તેનું પેમેન્ટ પોતાના ડેબીટ કાર્ડથી કરે છે. મોલની સામે આવેલ મેટ્રો સ્ટેશનથી તે મેટ્રો ટ્રેન પકડી પોતાના ઘરે પહોંચે છે તો રાજેશ ક્યાં રહેતો હશે ?

- (A) સુરત (B) પુરી
(C) હૈદરાબાદ (D) જોધપુર

(68) (i) છેલ્લાં બે વર્ષથી જિલ્લાનો સાક્ષરતા દર વધે છે.

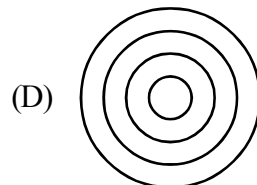
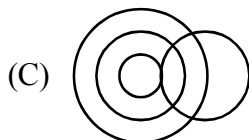
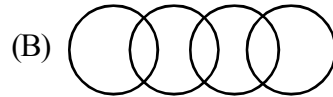
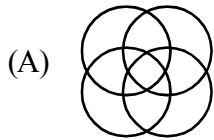
(ii) જિલ્લા પ્રસાસને છેલ્લાં કેટલાક સમયથી સાક્ષરતા ઝુંબેશ સાથે સંકળાયેલ વ્યક્તિઓની સઘન તાલીમ કરેલ છે અને તેમના કાર્યનું નિરીક્ષણ કરવામાં આવે છે.

- (A) વિધાન (i) એ કારણ છે અને વિધાન (ii) એ અસર છે.
(B) વિધાન (i) અને વિધાન (ii) એ બન્ને સ્વતંત્ર અસર છે.
(C) વિધાન (ii) કારણ છે અને વિધાન (i) એ અસર છે.
(D) વિધાન (i) અને (ii) બન્ને કારણ છે.

(69) મહેશનું મોઢું પૂર્વદિશામાં છે તે હવે 180° કલોક વાઈઝ ફરે છે ત્યાર બાદ 90° એન્ટી કલોક વાઈઝ ફરે છે. તો હવે તેનું મોઢું કઈ દિશામાં હશે ?

- (A) પૂર્વ (B) દક્ષિણ
(C) ઉત્તર (D) પશ્ચિમ

(70) નીચે પૈકી કયો વેન ડાયાગ્રામ વિશ્વ, એશિયા, ભારત અને ગુજરાતને દર્શાવે છે.



- (71) 'परिरंभ' शब्दનો समानार्थी शब्द શું થાય ?
 (A) તેજ (B) બનાવટ (C) આલિંગન (D) લુચ્ચું
- (72) શુદ્ધ શબ્દ કયો છે ?
 (A) મબલખ (B) શૃંગાર (C) ઔદ્યોગીકરણ (D) પ્રિયવંદા
- (73) 'એ પરીક્ષા : નિમિષ નહિ ચક્ષ, વિરજ વસ્ત્ર, ઊભા અંતરિક્ષ' - પંક્તિમાં રેખાંકિત કરેલ શબ્દ 'વિરજ'નો અર્થ શું થાય છે ?
 (A) મુલાયમ (B) રેશમી (C) રંગીન (D) સ્વચ્છ
- (74) આપેલાં વાક્યોમાં 'વિધ્યર્થ વાક્ય' કયું છે ?
 (A) ભગવાન ભજયા હોત તો ખોટું કાર્ય ન કરત. (B) આટલું મારું માનશો તો સો વર્ષ જીવશો.
 (C) પહેરજે, શર્ટ ફાડી નાખતો નહીં. (D) ભાઈ, કર્યા ભોગવવાં છે !
- (75) શબ્દ અને તેના અનેકાર્થી શબ્દોની ખોટી જોડ હોય તેવો વિકલ્પ કયો છે ?
 (A) મકરંદ - ભમરો, કોકિલ (B) કોઠો - મન, અંતઃકરણ
 (C) અર્ક - કિરણ, આકડો (D) પટ - ઢાંકણ, ગડી
- (76) 'પગ મૂકી શકાય નહીં એવું' ? - શબ્દસમૂહ માટેનો એક શબ્દ કયો છે ?
 (A) અગોચર (B) અચિંત્ય (C) અચર (D) અછડતું
- (77) પદ્ધત્તમ યોગ્ય રીતે સચવાયો હોય તેવું વાક્ય કયું છે ?
 (A) ગામમાં એક અનાજ વેચતો ફેરિયો દેખાયો.
 (B) મેં આજે ચામડાની, એક, નાનકડી બેગ ખરીદી.
 (C) વ્યાયામવીરો રોજ સવારે ઝડપથી મેદાનમાં દોડતા હોય છે.
 (D) રોજ સવારે માળી બગીચામાં ઝાડને પાણી પાય છે.
- (78) નીચે આપેલાં વાક્યોમાં 'અધિકરણ વિભક્તિ'નો પ્રયોગ થયો હોય તેવું વાક્ય કયું છે ?
 (A) તે કાલે રાત્રે ગયો. (B) કૂતરી તેનાં ગલુડિયાં સાથે આવી.
 (C) ભાવનગરથી અંબાજી ઘણું દૂર છે. (D) સમીરે તેને ગુલાબ આપ્યું.
- (79) શબ્દાર્થની ખોટી જોડ હોય તેવો કયો વિકલ્પ છે ?
 (A) રબીશ - અર્થહીન (B) હિચકારું - હીન કોટિનું
 (C) અજંપો - કુદાર (D) આશલેષ - ભેટવું
- (80) ભાષાકીય રીતે શુદ્ધ વાક્ય કયું છે ?
 (A) ગોપાલભાઈ સજ્જન વ્યક્તિ છે.
 (B) વિદ્યાર્થીનું એક માત્ર લક્ષ હોય છે - ઉત્તમ અભ્યાસ.
 (C) આ ટીશર્ટની શી કિંમત છે ?
 (D) ઓફિસમાં સફાઈકામ કરતા કર્મચારીઓ એકઠા થવાના છે.
- (81) 'મંદિરની આગળ એક નાનકડો બગીચો છે.' - વાક્યમાં વપરાયેલ નામયોગી ઓળખો.
 (A) મંદિર (B) ની (C) આગળ (D) બગીચો

- (82) 'તુંબડીમાં કાંકરા હોવા' રૂઢિપ્રયોગનો અર્થ શું થાય ?
 (A) કશી જ સમજ ન પડવી (B) નુકશાનમાં વધુ નુકસાન
 (C) ભેદભાવ હોવો (D) વજૂદ વિનાનું હોવું
- (83) સંધિની કઈ જોડ ખોટી છે ?
 (A) કલા + ઊર્મિ = કલોર્મિ (B) નવ + ઓઢા = નવોઢા
 (C) અનુ + એષણા = અન્વેષણા (D) વાકૂ + આડંબર = વાગાડંબર
- (84) વિરામચિહ્નોનો ઉચિત પ્રયોગ ન થયો હોય તેવું વાક્ય કયું છે ?
 (A) એણે કહ્યું : હું ત્યાં ક્યારેય આવીશ નહીં.
 (B) મા'રાજ, આ માટે શું જોઈશે ?
 (C) બધાં જ તત્ત્વજ્ઞાન (?) સમજી શકતા હશે ?
 (D) "બોલે એનાં બોર વેચાય"
- (85) ખોટી જોડણી કયા શબ્દની છે ?
 (A) કમિશનર (B) ઉતુંગ (C) કમિટી (D) નૈર્ઝત્ય
- (86) Find the different word from following words.
 (A) retrieve (B) rescue (C) salvage (D) evade
- (87) Neither you nor your friend was sick ?
 (Put a suitable question tag choosing from the given options below.)
 (A) Wasn't he ? (B) Was he ? (C) Weren't they ? (D) Were they ?
- (88) If Mr. Shah had saved money earlier, he a new car.
 (A) bought (B) have had bought
 (C) will have bought (D) would have bought
- (89) Shruti said to Neha, "You are my best friend now." - find correct indirect speech.
 (A) Shruti told Neha the she was her best friend then.
 (B) Shruti told Neha that she was her best friend now.
 (C) Shruti told Neha that she was her best friend then.
 (D) Shruti said Neha that she is her best friend then.
- (90) The lightning has a tongue of flame. Identify the figure of speech used in the sentence.
 (A) Irony (B) Personification
 (C) Metaphor (D) Simile
- (91) Dr. Harris welcomed the members of the committee and went on the subject of the meeting.
 Put Proper verb form.
 (A) introduced (B) introducing
 (C) introduces (D) to introduce

- (92) Find out similar word for : Assault
 (A) Defence (B) Beating (C) Shooting (D) Attack
- (93) Select the correct sentence.
 (A) Unless you worked hard, you will fail.
 (B) Unless you don't work hard, you will fail.
 (C) Unless you work hard, you will fail.
 (D) Unless you will work hard, you will fail.
- (94) Intelligent he is, he could not pass that exam.
 (A) though (B) however (C) yet (D) as
- (95) Parth filled ten litres of petrol to go to Ahmedabad. Select the most appropriate option to get the underlined word as answer.
 (A) How much petrol Parth filled to go to Ahmedabad ?
 (B) How much petrol did Parth filled to go to Ahmedabad ?
 (C) How much petrol did Parth fill to go to Ahmedabad ?
 (D) How much petrol Parth fill to go to Ahmedabad ?
- (96) Let her kill the mouse. Select the correct passive sentence.
 (A) The mouse was killed by her.
 (B) Let the mouse be killed by her.
 (C) Let the mouse is killed by her.
 (D) Let her kill the mouse.
- (97) No sooner did I reach the college
 (Select correct option to complete the sentence)
 (A) when it started to rain. (B) and it started to rain.
 (C) than it started to rain. (D) after it started to rain.
- (98) Neither of your friend will come. Identify the Pronoun.
 (A) Distributive (B) Demonstrative
 (C) Indefinite (D) Reciprocal
- (99) Many times he helps those he doesn't know.
 (A) who (B) which (C) what (D) whom
- (100) If you the rumour, you
 (A) had spread, would have been arrested.
 (B) had spread, would have arrested
 (C) had spreaded, would have been arrested
 (D) had spreaded, could have arrested

- (101) “માણસ પોતાની અમર્યાદિત જરૂરીયાતો અને મર્યાદિત સાધનો વચ્ચે મેળ કેવી રીતે બેસાડે છે ? તે વર્તનનો અભ્યાસ કરતુ શાસ્ત્ર એટલે અર્થશાસ્ત્ર” - આ વ્યાખ્યા કોણે આપી છે ?
- (A) લેમ્બુલસન (B) જહોન રોબિન્સ
(C) રીકાર્ડો (D) માલ્થસ
- (102) વસ્તુની કિંમત ઘટવા છતાં વસ્તુની માંગમાં ઘટાડો થાય છે તે કયા પ્રકારની અસરનું પરિણામ છે ?
- (A) ધન અવેજી અસરનું (B) ધન આવક અસરનું
(C) ધન કિંમત અસરનું (D) ઋણ આવક અસરનું
- (103) નીચેનામાંથી કઈ વસ્તુ વપરાશી વસ્તુ નથી પણ ઉત્પાદક વસ્તુ છે ?
- (A) મોબાઈલ (B) નોટબુક (C) ભોજન (D) ટ્રેક્ટર
- (104) અર્થશાસ્ત્રના અભ્યાસમાં આંકડાકીય માહિતીઓ નીચેનામાંથી કઈ બાબતમાં મદદરૂપ થતી નથી ?
- (A) રજૂઆતને આધારભૂત બનાવવામાં (B) દશા અને દિશા બતાવવામાં
(C) તુલનાત્મક અભ્યાસમાં (D) સંપૂર્ણ ચિત્ર સ્પષ્ટ કરવામાં
- (105) નીચેનામાંથી કયુ ઉદાહરણ સ્થિર ખર્ચનું છે ?
- (A) રોજીંદા શ્રમિકોનું વેતન (B) ચોકીદારનો પગાર
(C) લાઈટ બીલ (D) કાચામાલનો ખર્ચ
- (106) બજારમાં પુરવઠો અને જથ્થો બન્ને જુદા હોઈ શકે છે જ્યારે...
- (A) ગ્રાહક ખરીદવા તૈયાર ન હોય.
(B) ગ્રાહક પાસે ખરીદવાની શક્તિ ન હોય.
(C) ઉત્પાદક વર્તમાન કિંમતે વેચાણ કરવા તૈયાર ન હોય.
(D) ઉત્પાદક વર્તમાન કિંમતે બધુ જ વેચવા તૈયાર હોય.
- (107) ભારતમાં મધ્યસ્થ બેંક (RBI) ની સ્થાપના કયા વર્ષમાં થઈ ?
- (A) 1847 (B) 1857 (C) 1935 (D) 1947
- (108) ભારતીય રીઝર્વ બેંક દ્વારા ફેબ્રુ.'23 માં જાહેર કર્યા મુજબ રેપોરેટ કેટલા ટકા છે ?
- (A) 7% (B) 5.50% (C) 6% (D) 6.50%
- (109) વર્તમાન અંદાજો મુજબ ભારતની સક્રિય આવકમાં ખેતીક્ષેત્રનો ફાળો કેટલા ટકા છે ?
- (A) 68% (B) 52% (C) 71% (D) 14%
- (110) કયા પ્રકારના બજારમાં પેઢી જ ઉદ્યોગ બની જાય છે ?
- (A) ઈજારામુક્ત હરિફાઈમાં (B) સંપૂર્ણ હરિફાઈમાં
(C) શુદ્ધ ઈજારામાં (D) અપહસ્તક ઈજારાવાળા બજારમાં
- (111) કયા બજારમાં સીમાંત આવક અને સરેરાશ આવકની રેખા એક જ હોય છે ?
- (A) અલ્પહસ્તક ઈજારાવાળા બજારમાં (B) ઈજારાવાળા બજારમાં
(C) ઈજારાયુક્ત હરિફાઈવાળા બજારમાં (D) પૂર્ણ હરિફાઈવાળા બજારમાં

- (112) નીચેનામાંથી કયુ લક્ષણ માત્ર પૂર્ણહરિકાઈવાળા બજારને જ લાગુ પડે છે ?
 (A) મુક્તપ્રવેશ - મુક્ત નિકાસ (B) વસ્તુ વિકલન
 (C) વેચાણ ખર્ચ (D) એક કે થોડાક ઉત્પાદકો કિંમત પર અસર ન કરી શકે
- (113) ભારતમાં આર્થિક ક્ષેત્રે ખાનગીકરણ અને ઉદારીકરણની નીતિ કયા વર્ષે શરૂ કરવામાં આવી ?
 (A) 1991 (B) 1995 (C) 2000 (D) 2014
- (114) જે વસ્તુની દેશ આયાત કરતો હોય તે વસ્તુનું દેશમાં જ ઉત્પાદન કરવાની નીતિને શું કહેવામાં આવે છે ?
 (A) વિદેશ વેપારનીતિ (B) આયાત ઉત્પાદનનીતિ
 (C) ઉદાર આયાતનીતિ (D) આયાત અવેજીકરણ
- (115) દેશની રાષ્ટ્રિય આવકની ગણતરી માટે ઉપયોગમાં લેવાતી ખર્ચની પદ્ધતિ આવકની પદ્ધતિ અને (ત્રીજી પદ્ધતિનું નામ)

 (A) વેચાણની પદ્ધતિ (B) ઉત્પાદનની પદ્ધતિ
 (C) હિસાબની પદ્ધતિ (D) સરકારની પદ્ધતિ
- (116) રાષ્ટ્રિય આવકની ગણતરી કરતી વખતે નીચેનામાંથી કઈ બાબત લાગુ પડતી નથી ?
 (A) અર્થતંત્રનું જુદાં જુદાં ક્ષેત્રોમાં વર્ગીકરણ કરવું.
 (B) અંતિમ વપરાશમાં આવતી વસ્તુઓની જ ગણતરી કરવી.
 (C) ગૃહિણીનું કામ તથા સ્વવપરાશ વધુ ધ્યાનમાં લેવી.
 (D) ચોકસાઈ રાખવી.
- (117) કુલ ઘરેલું ઉત્પાદન (GDP) માંથી શું બાદ કરીએ તો (NDP) ચોખ્ખું ઘરેલું ઉત્પાદન મળે ?
 (A) વિદેશમાંથી થયેલી આવક (B) સબસીડી
 (C) પરોક્ષવેરા (D) ઘસારો
- (118) નીચેનામાંથી કઈ પ્રવૃત્તિ વિદ્યાર્થીને સીધા અર્થશાસ્ત્રના જ્ઞાનમાં મદદરૂપ ન બને ?
 (A) બેંકની મુલાકાત (B) ડેરીની મુલાકાત
 (C) ખેતીવાડી ઉત્પાદન બજાર સમિતિની મુલાકાત (D) બગીચાની પિકનીક
- (119) અર્થશાસ્ત્રના શિક્ષકને આર્થિક સંદર્ભ માટે આંકડાકીય માહિતી મેળવવા નીચેનામાંથી કયો સંદર્ભ કામ ન લાગે ?
 (A) રીઝર્વ બેંકનો અહેવાલ (B) વલ્ડ બેંકનો રીપોર્ટ
 (C) સરકારનો આર્થિક સર્વે (D) વિકીપીડીયા
- (120) 'કૌટિલ્ય' કે 'ચાણક્ય' ના નામે જાણીતા ભારતના અર્થચિંતક, દાર્શનિકનું મૂળ નામ શું હતું ?
 (A) સમુદ્રગુપ્ત (B) ચન્દ્રગુપ્ત (C) વિષ્ણુગુપ્ત (D) સ્કંદગુપ્ત
- (121) મહાત્મા ગાંધીના આર્થિક વિચારો સાથે નીચેનામાંથી કયો વિચાર બંધબેસતો નથી ?
 (A) વિકેન્દ્રીત અર્થવ્યવસ્થા (B) શ્રમનું ગૌરવ
 (C) યંત્રોનો વિવેકપૂર્વક ઉપયોગ (D) રાજ્યનો સતત હસ્તક્ષેપ
- (122) નીચેનામાંથી કઈ બાબત આર્થિક વૃદ્ધિને દર્શાવે છે ?
 (A) સમાજમાં બદલાતા વલણો (B) દેશમાં આવતા સાંસ્કૃતિક પરિવર્તનો
 (C) શિક્ષણ-સભ્યતામાં વિકાસ (D) આવક-રોજગારી-ઉત્પાદનમાં માપી શકાય તેવો વધારો

- (123) નીચેનામાંથી કયો માપદંડ આર્થિક વિકાસને માપવાનો શ્રેષ્ઠ માપદંડ માનવામાં આવે છે ?
 (A) રાષ્ટ્રીય આવકમાં વધારો (B) જીવન ભૌતિક ગુણવત્તાનો આંક
 (C) ભાવસપાટીમાં સતત વધારો (D) માથાદીઠ આવકમાં વધારો
- (124) અર્થતંત્રમાં ઉત્પાદનના તમામ સાધનોને પૂર્ણરોજગાર મળે પછી ભાવ વધારાની સ્થિતિ સાચી કુગાવાની સ્થિતિ છે – આ વિધાન કોનું છે ?
 (A) કાઉથર (B) જહોન મોનાર્ડ કેઈન્સ
 (C) પ્રો. પિગુ (D) પ્રો. માર્શલ
- (125) રીઝર્વ બેંક ઓફ ઈન્ડિયા ટુંકા ગાળા માટે વેપારી બેંકો પાસેથી જે દરે ધિરાણ મેળવે તેને કહે છે.
 (A) રેપોરેટ (B) બેંકરેટ (C) કેડિટરેટ (D) રીવર્સ રેપો રેટ
- (126) જો સરકાર કુગાવાને કાબુમાં રાખવા માટે નાણા પ્રવાહને ઘટાડવા માગે છે તો મધ્યસ્થ બેંક દ્વારા કેશ રીઝર્વ રેશિયો (CRR)
 (A) સ્થિર રાખવામાં આવશે. (B) વધારો કરવામાં આવશે.
 (C) ઘટાડો કરવામાં આવશે. (D) અસ્થિર બનાવી દેવાશે.
- (127) ભારતમાં જનધન યોજનાની શરૂઆત ક્યારે થઈ ?
 (A) 1 માર્ચ 2015 (B) 1 જાન્યુઆરી 1991
 (C) 15 ઓગષ્ટ 2017 (D) 28 ઓગષ્ટ 2014
- (128) જ્યારે અર્થતંત્રમાં ઉત્પાદન પદ્ધતિ બદલાય કે માંગમાં પરિવર્તન આવે ત્યારે જે બેરોજગારી સર્જાય તે કેવા પ્રકારની બેરોજગારી કહેવાય ?
 (A) ઘર્ષણજન્ય બેરોજગારી (B) મોસમી બેરોજગારી
 (C) ચક્રીય બેરોજગારી (D) સ્વૈચ્છીકીય બેરોજગારી
- (129) લેણદેણતુલામાં કુલ કેટલા ખાતા હોય છે ?
 (A) એક (B) બે (C) ત્રણ (D) ચાર
- (130) શાળામાં શિક્ષણ મેળવવાની પ્રવૃત્તિ કઈ પ્રવૃત્તિ છે ?
 (A) બિનઆર્થિક (B) આર્થિક (C) ધાર્મિક (D) આકસ્મિક
- (131) ઉત્પાદનનું સૌથી વધુ ગતિશીલ સાધન કયું છે ?
 (A) જમીન (B) મૂડી (C) શ્રમ (D) નિયોજક
- (132) શ્રમના પુરવઠાનો આધાર કોની પર છે ?
 (A) મૂડી (B) વસ્તી (C) વેતન (D) નફો
- (133) વસ્તુની માંગ પર સૌથી વધુ અસર કરનાર નિર્ણાયક પરિબળ કયું છે ?
 (A) વ્યક્તિની આવક (B) વસ્તીનું પ્રમાણ (C) વ્યક્તિની અભિરૂચી (D) વસ્તુની કિંમત
- (134) કઈ રેખા ડાબી બાજુથી જમણી બાજુ, ઉપરથી નીચે તરફ ગતિ કરે છે ?
 (A) પુરવઠા રેખા (B) કિંમત રેખા (C) માંગ રેખા (D) તક રેખા

- (135) માંગનું વિસ્તરણ સંકોચન શેના પર આધારિત છે ?
 (A) ગ્રાહકોની આવક (B) કિંમતમાં ફેરફારો
 (C) વસ્તિનું પ્રમાણ (D) ભવિષ્યના ભાવો અંગેની અટકળો
- (136) સંપૂર્ણ મૂલ્યસાપેક્ષ માંગરેખા કેવી હોય છે ?
 (A) આડીધરીને સમાંતર (B) ધન ઢાળ ધરાવતી
 (C) ઊભી ધરીને સમાંતર (D) ઋણ ઢાળ ધરાવતી
- (137) વસ્તુના તમામ એકમો પ્રવર્તમાન કિંમતે ઉત્પાદક વેચવા તૈયાર ન હોય, તો તેને શું કહેવાય ?
 (A) જથ્થો (B) પુરવઠો (C) ઉત્પાદન (D) માંગ
- (138) પુરવઠા રેખાનો ઢાળ કેવો હોય છે ?
 (A) ઋણ (B) સમાંતર (C) વાકાર (D) ધન
- (139) વાસ્તવિક ખર્ચનો ખ્યાલ કયા અર્થશાસ્ત્રીઓએ રજૂ કર્યો હતો ?
 (A) આધુનિક (B) નવ-પ્રશિષ્ટ (C) પ્રશિષ્ટ (D) નાણાવાદી
- (140) પૂર્ણ હરીફાઈવાળું બજાર કેવું બજાર ગણાય છે ?
 (A) આદર્શ (B) ઈજારો (C) નિયંત્રિત (D) મર્યાદિત
- (141) માનવવિકાસ અહેવાલની રચના કોણ કરે છે ?
 (A) સંયુક્ત રાષ્ટ્રસંઘ (B) વિશ્વબેંક
 (C) આંતરરાષ્ટ્રીય નાણાભંડોળ (D) વિશ્વ આરોગ્ય સંસ્થા
- (142) વર્તમાન સમયમાં ભારતની રાષ્ટ્રીય આવકમાં સૌથી વધુ (સૌથી શ્રેષ્ઠ) ફાળો આપનાર ક્ષેત્ર કયું છે ?
 (A) ખેતી (B) પશુ પાલન (C) ઉદ્યોગ (D) સેવા
- (143) આર્થિકક્ષેત્રે ભારતે કેવા અર્થતંત્રવાળી અર્થવ્યવસ્થા સ્વીકારી ?
 (A) મિશ્ર (B) મૂડીવાદી (C) સમાજવાદી (D) સામ્યવાદી
- (144) ભારતમાં FEMA નો કાયદો કયા વર્ષમાં અમલમાં આવ્યો ?
 (A) 1973 (B) 1980 (C) 1991 (D) 1999
- (145) ભારત વિશ્વવ્યાપાર સંસ્થા (WTO)નું સભ્ય ક્યારે બન્યું હતું ?
 (A) 1951 (B) 1991 (C) 1995 (D) 1999
- (146) અર્થતંત્રની કામગીરીનું સરવૈયું એ કઈ આવક છે ?
 (A) રાષ્ટ્રીય (B) માથાદીઠ (C) સરેરાશ (D) સીમાંત
- (147) ભાડું + વેતન + વ્યાજ + નફો એટલે શું ?
 (A) માથાદીઠ આવક (B) રાષ્ટ્રીય આવક (C) નાણાકીય આવક (D) વાસ્તવિક આવક
- (148) મંદીના સમયમાં કેવા પ્રકારનું અંદાજપત્ર અનુકૂળ હોય છે ?
 (A) સમતોલ (B) ખાધવાળું (C) પુરાંતવાળું (D) શૂન્ય આધારિત

- (149) માનવકલ્યાણને લક્ષમાં રાખીને આર્થિક વિચારો રજૂ કરનાર અર્થશાસ્ત્રી કોણ હતા ?
 (A) એડમસ્મિથ (B) પ્રો. આલ્ફ્રેડ માર્શલ
 (C) પ્રો. રોબિન્સ (D) પ્રો. કેઈન્સ
- (150) આર્થિક માહિતી અંગેના આધારભૂત ડેટાની સીડી કોણ તૈયાર કરે છે ?
 (A) ખાનગી પ્રકાશન (B) શાળાઓ
 (C) પ્રયોગશાળા, સંશોધન કેન્દ્ર, સરકાર વગેરે (D) સામાન્ય વ્યક્તિઓ
- (151) આલેખ કે આકૃતિમાં Y ધરી પર સામાન્ય રીતે શું દર્શાવવામાં આવે છે ?
 (A) સમયગાળો (B) પરતંત્ર ચલ (C) દેશ (D) વર્ષ
- (152) આર્થિક વૃદ્ધિ કેવી હોય છે ?
 (A) ઝડપી (B) સ્થિર (C) ધીમી (D) અસ્થિર
- (153) આર્થિક વૃદ્ધિ એ કેવું પરિવર્તન છે ?
 (A) સામાજિક (B) ગુણાત્મક (C) પરિમાણાત્મક (D) ત્રણેય
- (154) કોના મતે આર્થિક પ્રશ્નોનું નિરાકરણ તે આર્થિક વિકાસ છે ?
 (A) ઉર્સુલા હિક્સ (B) સાયમન (C) હેન્સન (D) મેકલપ
- (155) કઈ ટેકનોલોજી અપનાવતા વિકાસ દર ઝડપી બને છે ?
 (A) અગ્નિ આધારીત (B) પાણી આધારીત
 (C) લોખંડ-કોલસા આધારીત (D) અગ્નિ-પાણી આધારીત
- (156) સરકારે કાયદા દ્વારા વધતા ભાવોને અટકાવેલા હોય તેવો ભાવ વધારો કયા પ્રકારનો ફુગાવો છે ?
 (A) છુપો ફુગાવો (B) દોડતો ફુગાવો
 (C) દાબેલો ફુગાવો (D) ખુલ્લો ફુગાવો
- (157) નાણાંનું સૌથી અગત્યનું અને પાયાનું કાર્ય કયું છે ?
 (A) મૂડી રોકાણનું (B) સંપત્તિના સંગ્રાહક તરીકેનું
 (C) વિનિમયના માધ્યમ તરીકે (D) ભવિષ્યના ભાવો નક્કી કરવાનું
- (158) નાણાવાદીઓ ફુગાવાને કેવી ઘટના માને છે ?
 (A) સામાજિક (B) નાણાકીય (C) રાજકીય (D) માનસિક
- (159) વિશ્વની સૌપ્રથમ બેંક કયા દેશમાં સ્થપાયેલી હતી ?
 (A) જાપાન (B) સ્પેન (C) રશિયા (D) શ્રીલંકા
- (160) સામાન્ય રીતે કયા ખાતાની થાપણો વધુ તરલ હોય છે ?
 (A) ચાલુ (B) બચત (C) રીકર્ડીંગ (D) મુદતી
- (161) નાણાકીય નીતિ ઘડવાનું કાર્ય કોણ કરે છે ?
 (A) કેન્દ્ર સરકાર (B) વેપારી બેંકો (C) રાજ્ય સરકાર (D) મધ્યસ્થ બેંક

- (162) ભારતમાં ચલણી સિક્કાઓ કોણ બહાર પાડે છે ?
 (A) ભારત સરકારનું નાણાંખાતું (B) રાજ્ય સરકારનું નાણાંખાતું
 (C) સ્ટેટ બેંક ઓફ ઈન્ડિયા (D) રિઝર્વ બેંક ઓફ ઈન્ડિયા
- (163) કોના અહેવાલ મુજબ આર્થિક વિકાસ તે સાધન છે અને માનવ વિકાસ તે ધ્યેય છે ?
 (A) તેંડુલકર સમિતિ (B) માનવ વિકાસ
 (C) ભગવતી સમિતિ (D) આંતરરાષ્ટ્રીય નાણાં ભંડોળ
- (164) કોને માપવા માટે લોરેન્જ વક્રનો ઉપયોગ થાય છે ?
 (A) નિરપેક્ષ ગરીબી (B) બેરોજગારી દર
 (C) સાપેક્ષ ગરીબી (D) કુળાવાનો દર
- (165) ગરીબી રેખા નક્કી કરવા માટે કેલરીના વપરાશ માટે જરૂરી ખર્ચ ઉપરાંત શિક્ષણ અને સ્વાસ્થ્ય માટેના ખર્ચનો સમાવેશ કોણે કર્યો ?
 (A) લાકડાવાળા સમિતિ (B) દાંડેકર રથ સમિતિ
 (C) ભગવતી સમિતિ (D) તેંડુલકર સમિતિ
- (166) પ્રવર્તમાન વેતન દરે વ્યક્તિની કામ કરવાની ઈચ્છા શક્તિ અને તૈયારી હોવા છતાં કામ વગર રહેવું પડે તે કયા સ્વરૂપની બેરોજગારી કહેવાય ?
 (A) ફરજિયાત (B) મરજિયાત (C) સ્વૈચ્છિક (D) આળસવૃત્તિ
- (167) અસરકારક માંગના અભાવે કયા પ્રકારની બેરોજગારી ઉદ્ભવે છે ?
 (A) મોસમી (B) શિક્ષિત (C) ચક્રીય (D) પ્રચ્છન
- (168) કયા પ્રકારના બેરોજગારની ઉત્પાદકતા લગભગ શૂન્ય હોય છે ?
 (A) સંપૂર્ણ (B) મોસમી (C) પ્રચ્છન્ન (D) શિક્ષિત
- (169) અર્થશાસ્ત્રમાં વાસ્તવિક જીવનમાં બનતી કેવી ઘટનાઓની સમજૂતી અપાય છે ?
 (A) આર્થિક (B) સામાજિક (C) રાજકીય (D) ધાર્મિક
- (170) ઉંચી ઉત્પાદકતા આપતી જાતોનો કાર્યક્રમ બીજા કયા નામથી ઓળખવામાં આવે છે ?
 (A) સફેદ કાંતિ (B) અનાજ કાંતિ
 (C) હરિયાળી કાંતિ (D) ઔદ્યોગિક કાંતિ
- (171) નીચેનામાંથી કઈ વસ્તુઓની આયાતને વિકાસલક્ષી આયાત કહી શકાય ?
 (A) ચા-કોફી (B) શણ (C) મસાલા (D) ટેકનોલોજી
- (172) સ્વતંત્રતાની શરૂઆતના સમયગાળામાં ભારતનો વેપાર કયા પ્રદેશ સાથે સૌથી વધુ હતો ?
 (A) યુકે (B) યુએસએ (C) ઓપેક (D) યુએસએસઆર
- (173) ટ્યુકડા ઉદ્યોગો માટે મૂડી રોકાણની મર્યાદા કેટલી છે ?
 (A) 25 લાખ રૂપિયા (B) 50 લાખ રૂપિયા
 (C) 75 લાખ રૂપિયા (D) એક કરોડ રૂપિયા

- (174) નીચેનામાંથી કયો દેશ ખેતીપ્રધાન હોવા છતાં વિકસિત છે ?
 (A) ન્યૂઝીલેન્ડ (B) અમેરિકા (C) જાપાન (D) જર્મની
- (175) ઓઈલ એન્ડ નેચરલ ગેસ કોર્પોરેશન નીચેનામાંથી કોનું ઉદાહરણ છે ?
 (A) ખાનગી ઉદ્યોગ (B) જાહેર નિગમ
 (C) સંયુક્ત મૂડી કંપની (D) નાના ઉદ્યોગ
- (176) ફાલતા SEZ કયા રાજ્યમાં સ્થાપવામાં આવ્યું છે ?
 (A) ગુજરાત (B) કેરળ (C) પશ્ચિમ બંગાળ (D) ઉત્તર પ્રદેશ
- (177) ટ્યુકડા ઉદ્યોગો કેવા પ્રકારની ઉત્પાદન પદ્ધતિ અપનાવે છે ?
 (A) મૂડી પ્રધાન (B) શ્રમપ્રધાન (C) મિશ્ર (D) નિકાસલક્ષી
- (178) વિશિષ્ટ આર્થિક વિસ્તારનો ઉપયોગ નીચેનામાંથી કયા દેશે કર્યો છે ?
 (A) પાકિસ્તાન (B) શ્રીલંકા (C) નેપાળ (D) ફિલિપ્સ
- (179) આકર્ષણ સ્થળાંતરની અસરો કેવા પ્રકારની છે ?
 (A) નકારાત્મક (B) હકારાત્મક (C) શૂન્ય (D) સાપેક્ષ
- (180) ભારતીય બંધારણે કઈ વય સુધીના બાળકોને શિક્ષણ મફત અને ફરજિયાત આપવાનું કહેલ છે ?
 (A) 4 થી 14 વર્ષ (B) 5 થી 15 વર્ષ
 (C) 6 થી 15 વર્ષ (D) 7 થી 15 વર્ષ
- (181) અર્થશાસ્ત્રના શિક્ષણકાર્ય માટે માસિક આયોજન કરવાથી શિક્ષકને શું ફાયદો થશે ?
 (A) કામના દિવસો નક્કી થશે. (B) વેકેશનના દિવસો નક્કી થશે.
 (C) રજાના દિવસો નક્કી થશે. (D) કોઈ ફાયદો નહીં થાય.
- (182) શિક્ષક વિદ્યાર્થી સમક્ષ આર્થિક બાબતોની રજૂઆત ત્રણ રીતે કરી શકે છે ! શાબ્દિક રીતે, કોષ્ટકની રીતે અને.....
 (A) આકૃતિ કે આલેખ દ્વારા (B) વોટસેપ દ્વારા
 (C) ચિત્ર દ્વારા (D) નાટક દ્વારા
- (183) અર્થશાસ્ત્રના અભ્યાસમાં વિદ્યાર્થીને તેનામાં રહેલી કઈ શક્તિ સૌથી વધુ ઉપયોગી થશે ?
 (A) વક્તૃત્વ શક્તિ (B) કલ્પના શક્તિ
 (C) તર્ક શક્તિ (D) શારીરિક શક્તિ
- (184) વર્ગખંડમાં અર્થશાસ્ત્રના અભ્યાસ માટે નીચેનામાંથી સૌથી આધારભૂત આર્થિક સંદર્ભ કયો ગણાય ?
 (A) સરકારનો આર્થિક સર્વે (B) અખબારી અહેવાલ
 (C) સોશિયલ મિડિયા રીપોર્ટ (D) સામયીકના લેખ
- (185) અર્થશાસ્ત્રના અભ્યાસ-અધ્યયન માટે શિક્ષકે વર્ગખંડમાં આકૃતિ સમજાવવા માટે.....
 (A) આકૃતિનું માત્ર વર્ણન કરવું. (B) આકૃતિનો માત્ર ચાર્ટ બતાવવો.
 (C) બ્લેક બોર્ડ પર આકૃતિ દોરીને સમજાવવી. (D) વિદ્યાર્થીઓને આકૃતિ દોરવાનું કહી દેવું.

- (186) અર્થશાસ્ત્રના અધ્યાપનમાં દ્રશ્યશ્રાવ્ય માધ્યમોના ઉપયોગની મર્યાદા કઈ છે ?
 (A) વિદ્યાર્થીઓને આકર્ષક લાગે છે. (B) તે આધુનિક છે.
 (C) તે પરાવલંબી - જટીલ છે. (D) વિદ્યાર્થીને વધારે રસ પડે છે.
- (187) અર્થશાસ્ત્ર શિક્ષણના ધ્યેયો.....
 (A) કુશળ ઉપભોક્તા બનાવવા.
 (B) આર્થિક સમસ્યાઓથી માહિતગાર કરવા.
 (C) માનવીય આર્થિક વિકાસ કરવો.
 (D) ઉપરના તમામ.
- (188) IQ નક્કી કરવા માટેનું સૂત્ર કયું છે ?
 (A) $IQ = (\text{માનસિક વય} / \text{કોનોલોજીકલ વય}) \times 100$
 (B) $IQ = (\text{માનસિક વય} / \text{કોનોલોજીકલ વય})$
 (C) $IQ = (\text{કોનોલોજીકલ વય} / \text{માનસિક વય}) \times 100$
 (D) $IQ = (\text{કોનોલોજીકલ વય} / \text{માનસિક વય})$
- (189) અર્થશાસ્ત્ર સાથે સંકળાયેલ સામયિક કયું છે ?
 (A) અચલા (B) યોજના-અર્થ સંકલન
 (C) અભિયાન (D) સફારી
- (190) વર્ગબંડનું એક જૂથ અધ્યયનમાં મુશ્કેલી અનુભવતું હોય ત્યારે તેમની ઉણપ અને મુશ્કેલીઓ જાણવા ઉપયોગી મૂલ્યાંકન પ્રયુક્તિ કઈ છે ?
 (A) રચનાત્મક મૂલ્યાંકન (B) સારાંશ મૂલ્યાંકન
 (C) નિદાનાત્મક મૂલ્યાંકન (D) ગુણાત્મક મૂલ્યાંકન
- (191) CAL નું પૂરું નામ જણાવો.
 (A) Compulsory Assisted Learning.
 (B) Computer Assisted Learning.
 (C) Common Assisted Learning.
 (D) Computer Aided Learning.
- (192) અનૌપચારિક શિક્ષણનું ઉદાહરણ કયું છે ?
 (A) કુટુંબ (B) શાળા
 (C) મહાશાળા (D) આમાંથી એક પણ નહીં
- (193) અર્થશાસ્ત્રનું શિક્ષણ બાળકોમાં.....
 (A) જ્ઞાન વધારે છે. (B) માનસિક વિકાસ કરે છે.
 (C) A અને B (D) ઉપરમાંથી એક પણ નહીં
- (194) નીચેનામાંથી કયો ઘટક બાળકોને પ્રોત્સાહન આપવામાં ઉપયોગી નથી ?
 (A) પ્રશંસા (B) ઈનામ (C) મહાવરો (D) સન્માન

(195) તમને કોઈ વિદ્યાર્થી પ્રશ્ન પૂછે છે કે જેનો જવાબ તમને આવડતો નથી તો...

- (1) પ્રશ્નને ગૂંચકાર્ય તરીકે આપી દઈને ભણવાનું ચાલુ રાખશો.
- (2) તેને કહેશો કે પ્રશ્નનો જવાબ તમને આવતી કાલે આપીશ.
- (3) થોડા સમય પછી મળવા આવવાનું કહીને તેને ગ્રંથાલયમાં મોકલી આપશો.
- (4) તાસ પૂરો થયા પછી તમે પુસ્તકાલયમાં જઈને જવાબ શોધવાનો પ્રયત્ન કરશો.
- (5) પ્રશ્નના વખાણ કરીને સ્વીકારશો કે હાલમાં મને આ પ્રશ્નના જવાબની જાણ નથી.

(A) 1, 2, 4

(B) 3, 4, 5

(C) 2, 4, 5

(D) 2, 3, 5

(196) ચર્ચા પદ્ધતિ વિદ્યાર્થીઓની ક્ષમતા વિકસાવવામાં કઈ બાબતમાં અપવાદ છે ?

- (A) નેતૃત્વ શક્તિ
- (B) વિચારોની આપ લે કરવાની ક્ષમતા
- (C) સમસ્યા ઉકેલ તથા સર્જન ક્ષમતા
- (D) દરેક તબક્કે સ્વીકાર્ય નથી

(197) શિક્ષક દ્વારા ટીચિંગ લર્નિંગ મટીરીયલનો વર્ગખંડમાં ઉપયોગ કરવાથી.....

- (A) બાળકો ઘરે આવા સાધનો તૈયાર કરશે.
- (B) અધ્યયન અધ્યાપન પ્રક્રિયા રસપ્રદ બનશે.
- (C) બાળકો વર્ગમાં બેસી રહેશે.
- (D) શિક્ષકને આરામ મળી રહેશે.

(198) પેડાગોજી શું છે ?

- (A) શિક્ષણ
- (B) શીખવવાની પદ્ધતિ
- (C) માર્ગદર્શન આપવાની પદ્ધતિ
- (D) શીખવાની પદ્ધતિ

(199) પ્રોજેક્ટ પદ્ધતિમાં શિક્ષકની ભૂમિકા કયા પ્રકારની હોય છે ?

- (A) વિદ્યાર્થી કરતા વધુ સક્રિય
- (B) સમસ્યા ઉકેલનાર
- (C) લેખન તપાસનાર તરીકે
- (D) મિત્ર, તત્વચિંતક અને માર્ગદર્શક તરીકે

(200) વિવિધ વિષયો અને વિષયની ઉપશાખાઓ વચ્ચેના પારસ્પરિક સંબંધને જોડવાની પ્રક્રિયાને શું કહે છે ?

- (A) અનુબંધન
- (B) અનુબંધ
- (C) સંબંધ
- (D) સમન્વય



રફ કામ માટેનું પેઈજ

રફ કામ માટેનું પેઈજ

પરીક્ષા પૂરી થયા બાદ ઉત્તરપત્ર (OMR SHEET) ખંડ નિરીક્ષકને ખુલ્લું (કવરમાં મુક્યા વગર) પરત કર્યા બાદ જ પરીક્ષા ખંડ છોડવાનો રહેશે. તેમ કરવામાં કસૂર થયેથી શિસ્તભંગના પગલાં ગણી પરીક્ષા માટે જે તે ઉમેદવારને ગેરલાયક ઠેરવવામાં આવશે.