

कुल गुण 200

ECONOMICS (Hindi Medium)

कैटेगरी

परीक्षार्थी का
बैठक क्रमांक

--	--	--	--	--	--	--	--	--	--

A

परीक्षार्थी का ब्लॉक नं.

--

परीक्षार्थी के हस्ताक्षर

--

ब्लॉक सुपरवाइजर के हस्ताक्षर

--

परीक्षार्थियों के लिए महत्वपूर्ण सूचनाएँ

- (1) आपको जब तक कहा न जाए तब तक प्रश्न पुस्तिका नहीं खोलनी है।
- (2) परीक्षा के दौरान परीक्षार्थी के पास कोई भी साहित्य गार्ड, मार्गदर्शिका, कागज का टुकड़ा, अन्य हस्तलिखित या प्रिन्टेड साहित्य, मोबाइल फोन, केल्व्युलेटर, स्पाई कैमरा, हेडफोन या अन्य दूसरे उपकरण प्राप्त होंगे तो परीक्षार्थी अयोग्य माने जाएंगे।
- (3) परीक्षा के दौरान आपस में बात करना, आवाज करना या सुपरवाइजर के निर्देशों का उल्लंघन करना, इससे वे अयोग्य माने जाएंगे।
- (4) प्रश्नपत्र मिलने पर तुरंत उत्तरपत्र (OMR SHEET) में नियत (स्थान) जगह पर अपना बैठक नंबर स्वच्छ अक्षर में लिखिए।
- (5) उत्तरपत्र (OMR SHEET) में निश्चित जगह के अलावा दूसरी जगह बैठक नंबर नहीं लिखना है तथा अपनी पहचान नाम सहित अन्य कोई भी निशान लगाने की कड़ी मनाही है। इसके अलावा कोई भी निशान या पहचान प्राप्त होने पर उन्हें संपूर्ण रूप से अयोग्य माना जाएगा।
- (6) उत्तरपत्र (OMR SHEET) के प्रमाण पत्र में परीक्षार्थी तथा सुपरवाइजर दोनों के हस्ताक्षर अनिवार्य हैं। दोनों के हस्ताक्षर के बिना उत्तरपत्र (OMR SHEET) का मूल्यांकन नहीं होगा। अतः उम्मीदवार को सुपरवाइजर के हस्ताक्षर लेना अनिवार्य है।
- (7) परीक्षार्थी नीला/काला बॉल पेन उपयोग कर सकते हैं। अन्य रंगों के पेन या पेन्सिल तथा व्हाइटनर का उपयोग नहीं कर सकते हैं।
- (8) प्रश्नपत्र में दिए गए विकल्पों में किसी भी प्रकार के निशान नहीं लगाना है।
- (9) इस प्रश्नपत्र में कुल - 200 प्रश्न हैं। प्रत्येक प्रश्न का उत्तर A, B, C और D में से कोई एक है। सभी प्रश्नों के लिए चार विकल्प दिए गए हैं। सभी प्रश्नों के उत्तर देना अनिवार्य है।
उदाहरण : गुजरात की राजधानी क्या है?
(A) अहमदाबाद (B) गाँधीनगर (C) वडनगर (D) पाटण
यहाँ उत्तर (B) गाँधीनगर सही हो तो, OMR SHEET में विकल्प (B) के गोले को पेन से गाढ़ा (Encode) करना होगा।
Ⓐ ● Ⓒ Ⓓ
- (10) प्रत्येक सही जवाब का 1 (एक) अंक दिया जाएगा। प्रत्येक गलत उत्तर के लिए 0.25 गुण घटाए जाएंगे (नेगेटिव 0.25) यदि उम्मीदवार किसी प्रश्न का उत्तर नहीं देना चाहता तो उन्हें विकल्प E पसंद करना होगा। विकल्प E के लिए नेगेटिव गुण नहीं रहेंगे।
- (11) कांट-छांट किए गए उत्तर तथा एक से ज्यादा विकल्प में दिए उत्तर तथा ब्लैड, रबर या व्हाइटनर का उपयोग कर बदले हुए उत्तर के लिए 0.25 नेगेटिव अंक दिए जाएंगे।
- (12) परीक्षा पूर्ण होने के पश्चात् उत्तरपत्र (OMR SHEET) ब्लॉक सुपरवाइजर को देने के बाद ही कक्षा (CLASS ROOM) से निकलना है। ऐसा नहीं करने पर उम्मीदवार परीक्षा के लिए अयोग्य माने जाएंगे।
- (13) इस परीक्षा का निर्धारित समय 180 मिनट है।
- (14) सर्वाधिक उपयुक्त विकल्प को उत्तर माना जाएगा।

रफ कार्य हेतु

1. नीचे दिए गए विधानों को ध्यान में रखते हुए नीचे दिए गए कोड में से सही जवाब ज्ञात कीजिए।
 1. विक्रम संवत् 58 ईसा पूर्व में शुरू हुआ।
 2. शक संवत् 78 ई. में शुरू हुआ।
 3. गुप्त युग की शुरुआत 319 ई. में हुई थी।
 4. भारत में मुस्लिम युग की शुरुआत 1192 ई. में हुई थी।
 कोड
 (A) 1 और 2 (B) 3 और 4 (C) 1, 2 और 3 (D) 1,2,3 और 4
2. निम्न में से किसने भारतीयों को इंडियन सिविल सर्विस में मुक्त स्पर्धात्मक परीक्षा के माध्यम से प्रवेश को संभावित किया?
 (A) विलियम बेन्टिक (B) डेलहौसि (C) मायो (D) रिपन
3. झण्डा गीत किसने लिखा?
 (A) रवीन्द्रनाथ टैगोर (B) बंकिम चंद्र चेटर्जी (C) मैथिलीशरण गुप्त (D) श्यामलाल गुप्ता ' प्रशाद'
4. निम्न में से कौन सा भारत के संविधान के लिए सबसे बड़ा संदर्भ था?
 (A) द गवर्नमेन्ट ऑफ इंडिया एक्ट, 1919 (B) द गवर्नमेन्ट ऑफ इंडिया एक्ट, 1935
 (C) द इंडियन इंडीपेंडेंस एक्ट, 1947 (D) ऊपर में से एक भी नहीं
5. भारत के संविधान में संशोधन/ सुधार की प्रविधि _____ में दी गई है।
 (A) आर्टिकल 348 (B) आर्टिकल 358 (C) आर्टिकल 368 (D) आर्टिकल 378
6. भारत के संविधान का कौन सा आर्टिकल निर्देशित करता है कि 'चौदह वर्ष से कम उम्र के किसी भी बच्चे को किसी कारखाने या खदान में काम करने के लिए नियोजित नहीं किया जाएगा या किसी अन्य खतरनाक रोजगार में नहीं लगाया जाएगा।'
 (A) आर्टिकल 24 (B) आर्टिकल 45 (C) आर्टिकल 330 (D) आर्टिकल 368
7. राइट टू एज्युकेशन एक्ट 2009 निम्न में से सोसायटी के किस जूथ को मदद करने के लिए लाया गया था?
 (A) 6 से 14 साल की आयु के बच्चों के लिए
 (B) कॉलेज जाते युवाओं के लिए
 (C) वे सभी वयस्क जो औपचारिक शिक्षा प्राप्त नहीं कर सके
 (D) जो लोग तकनीकी शिक्षा में रुचि रखते हैं
8. भारत के संविधान के तहत निम्नलिखित में से कौन सा मौलिक कर्तव्य नहीं है?
 (A) चुनाव में मतदान करने के लिए
 (B) वैज्ञानिक सोच विकसित करना
 (C) सार्वजनिक संपत्ति की सुरक्षा के लिए
 (D) संविधान का पालन करना और उसके आदर्शों का सम्मान करना
9. भारत में 'बेटी बचाओ बेटी पढ़ाओ योजना' _____ में शुरू की गई।
 (A) अप्रैल, 2015 (B) मार्च, 2015 (C) फरवरी, 2015 (D) जनवरी, 2015
10. भारत का पहला रेलवे विश्वविद्यालय कहाँ शुरू किया गया था ?
 (A) बड़ौदा (B) बेंगलुरु (C) हैदराबाद (D) लखनऊ

11. निम्नलिखित में से किसे न तो बनाया जा सकता है और न ही नष्ट किया जा सकता है?
 (A) ऊर्जा (B) शक्ति (पावर) (C) वेग (D) गति (मोमेंटम)
12. निम्नलिखित में से कौन सा कंप्यूटर में डेटा को स्थायी रूप से संग्रहित करता है?
 (A) ALU (B) CAChe memory
 (C) RAM (D) ROM
13. निम्नलिखित में से कौन सा विटामिन ई का अच्छा स्रोत है?
 (A) मांस (B) घी (C) पीली जर्दी (D) ताजी सब्जियाँ
14. पुनासा जलप्रपात भारत में किस नदी पर स्थित है?
 (A) तापी (B) नर्मदा (C) चम्बल (D) कावेरी
15. RTE Act 2009 अधिनियम के प्रावधानों के अनुसार, प्राथमिक शिक्षा में प्रवेश उसकी उम्र के आधार पर होता है। इस प्रावधान के अनुसार 10 वर्ष पूर्ण कर चुके बच्चे को किस कक्षा में प्रवेश दिया जा सकता है?
 (A) पाँचवी कक्षा (B) छठी कक्षा (C) चौथी कक्षा (D) प्रवेश नहीं मिल सकता
16. RTE Act 2009 अधिनियम की धारा 21 में प्रावधान है कि विद्यालय विकास योजना _____ को तैयार करनी है?
 (A) जिला शिक्षा समिति (B) विद्यालय प्रबंधन समिति
 (C) तालुका शिक्षा समिति (D) सर्व शिक्षा अभियान कार्यालय
17. यूनेस्को के पूर्व निदेशक एवं गुजरात के प्रसिद्ध अंतर्राष्ट्रीय शिक्षाविद् कौन हैं?
 (A) गुणवंत शाह (B) डॉ. रवीन्द्र दवे
 (C) गिजुभाई बधेका (D) फादर वालेस
18. संविधान का कौन सा अनुच्छेद 14 वर्ष तक के बच्चों के लिए निःशुल्क शिक्षा का प्रावधान करता है?
 (A) अनुच्छेद 40 (B) अनुच्छेद 45 (C) अनुच्छेद 50 (D) अनुच्छेद 35
19. खेल सहायक परीक्षा देने के लिए अधिकतम आयु सीमा क्या है?
 (A) 32 वर्ष (B) 38 वर्ष (C) 40 वर्ष (D) 35 वर्ष
20. संविधान सभा में कुल कितने सदस्य थे?
 (A) 389 (B) 545 (C) 250 (D) 166
21. बच्चों का भाषा पर प्रभाव निर्भर करता है ...
 (A) बेहतर सामाजिक-आर्थिक वातावरण (B) बेहतर स्कूली शिक्षा
 (C) बच्चे को दी गई अभिव्यक्ति की स्वतंत्रता (D) उपरोक्त सभी
22. निम्नलिखित में से किस चरण में बच्चे अपने सहकर्मी समूह (समवयस्क) के सक्रिय सदस्य बन जाते हैं?
 (A) किशोरावस्था (B) वयस्कता (C) बचपन के प्रारंभिक वर्षों में (D) बचपन में
23. बाल मनोविज्ञान का क्षेत्र _____ है।
 (A) केवल शैशव अवस्था की विशेषता का अध्ययन
 (B) केवल गर्भाधान काल की विशेषता का अध्ययन
 (C) केवल बचपन की विशेषता का अध्ययन
 (D) गर्भाधान से किशोरावस्था तक की विशेषताओं का अध्ययन

- 24 बाल मनोविज्ञान के आधार पर कौन सा कथन उपयुक्त है?
 (A) सभी बच्चे एक जैसे (समान) हैं।
 (B) कुछ बच्चे एक जैसे (समान) हैं।
 (C) कुछ बच्चे अद्वितीय हैं।
 (D) प्रत्येक बच्चा अद्वितीय है।
- 25 शिक्षकों के लिए बाल विकास के विभिन्न चरणों के बारे में जानना क्यों महत्वपूर्ण है?
 (a) पढ़ने और पढ़ाने की प्रक्रिया के लिए एक आरामदायक वातावरण तैयार करना।
 (b) बच्चे की समस्याओं को जानना और समझना।
 (c) बच्चे के साथ प्रभावी संचार (कम्युनिकेशन) करना।
 (A) केवल a (B) केवल b (C) a और b दोनों (D) उपरोक्त सभी
- 26 कृतिका जो घर पर ज्यादा बात नहीं करती, स्कूल में बहुत बात करती है। यह दर्शाता है कि ...
 (A) स्कूल बच्चों को खूब बातें करने का मौका देता है
 (B) शिक्षक का आग्रह है कि बच्चों को स्कूल में खूब बातें करनी चाहिए
 (C) उसे अपना घर बिल्कुल पसंद नहीं है
 (D) उसके विचारों को स्कूल में स्वीकार किया जाता है
- 27 जीवन के निम्नलिखित चरणों में से, किसी व्यक्ति में सबसे अच्छा समाजीकरण कब होता है?
 (A) वयस्कता (B) किशोरावस्था (C) बचपन के पिछले वर्षों में (D) जीवनभर
- 28 निम्नलिखित में से कौन सी एक बच्चे के सामाजिक विकास की संस्थाएँ हैं?
 (a) परिवार (b) साथी (समवयस्क) (c) शिक्षक (d) स्कूल
 (A) c और d (B) a, c और d
 (C) a, b और c (D) उपरोक्त में से कोई नहीं
- 29 छात्रों को सीखने के अधिक प्रभावी अवसर _____ प्रदान किये जा सकते हैं।
 (A) सभी विषयों को विस्तृत समझाने से
 (B) अधिक शिक्षण सहायक सामग्री के उपयोग से
 (C) समय-समय पर परीक्षण आयोजित करने से
 (D) वास्तविक जीवन की स्थितियों के आधार पर शिक्षा का आयोजन करने से
- 30 मोना, एक गुजराती शिक्षिका, कभी भी कक्षा में किसी छात्र द्वारा उठाए गए प्रश्न का सीधे उत्तर नहीं देती। इसके बजाय, वह अन्य विद्यार्थियों को सही उत्तर तक ले जाने से पहले उत्तर के बारे में सोचने, समूह में चर्चा करने, आदि का समय देती है। वह शिक्षण के निम्नलिखित में से किस दृष्टिकोण का अनुसरण कर रही है?
 (A) वर्तनवादी (बिहेवियरिस्ट) (B) पारंपरिक
 (C) प्रगतिशील (प्रोग्रेसिव) (D) इनमें से कोई नहीं
- 31 निम्न में से कौन से मनोवैज्ञानिक की विचारधारा में विशेष योगदान दिया है ?
 (A) कोहलर (B) स्किनर (C) रॉबर्ट गेने (D) जॉन ड्युई

32 बाल केन्द्रित शिक्षा के मूल सिद्धांत के संदर्भ में निम्नलिखित का मिलान करें।

सिद्धांत	विशेषता
1. एक पद्धति और लक्ष्य के रूप में सोशल लर्निंग।	(A) सम्मानजनक तर्क-वितर्क करने और समाधान निकालने के मॉडल
2. सक्रिय स्व-विनियमित शिक्षा	(B) अपने प्रदर्शन/प्रगति के स्व-मूल्यांकन के लिए दिशानिर्देशों को जानना
3. बच्चों की जरूरतों पर उन्मुखीकरण (ओरिएंटेशन)	(C) दूसरों के साथ शैक्षिक विषयों पर सहयोग करना और चर्चा करना
4. बच्चों के प्रदर्शन (प्रगति) को लक्ष्य में लेना	(D) शिक्षा के विषयों/इकाइयों की योजना और डिजाइन में अपनी बात रखना

	A	B	C	D
(A)	4	2	1	3
(C)	3	2	1	4

	A	B	C	D
(B)	1	3	4	2
(D)	3	2	1	4

33 बच्चों में ज्ञान सृजन करने और अर्थ निकालने की क्षमता होती है। इस दृष्टि से शिक्षक की भूमिका _____ की होती है।

- (A) संचारक (कम्युनिकेटर) और व्याख्याता (B) सुविधाप्रदाता (फेसिलिटेटर)
(C) निदेशक (D) वार्ताकार

34. एक छात्र की वास्तविक आयु 10 वर्ष और मानसिक आयु 12 वर्ष है। उसका आईक्यू कितना होगा ?

- (A) 80 (B) 100 (C) 120 (D) 140

35 दो व्यक्तियों के बीच व्यक्तिगत मतभेद किसके कारण हो सकते हैं?

- (A) उनके व्यक्तित्वों के बीच असमानताएँ (B) उनके व्यक्तित्वों के बीच समानताएँ
(C) उनके बीच संघर्ष (D) मनुष्यों के बीच व्यक्तित्व की एकरूपता

36 सरिता, एक अंग्रेजी शिक्षिका, ने देखा कि वह जो पढ़ाती है एवं उसके छात्र जो सीखते हैं उसमें अंतर दिखता है तो सरिता को चाहिए ...

- (A) शिक्षण के एक समान तरीके का पालन करें ताकि सीखने में व्यक्तिगत भिन्नता को दूर किया जा सके।
(B) छात्रों के लिए अलग-अलग सख्त नियम बनाएँ।
(C) सीखने में सुधार के लिए अपने शिक्षण में विभिन्न प्रकार के अनुभवों को शामिल करें।
(D) इस भिन्नता के बारे में चिंता न करें।

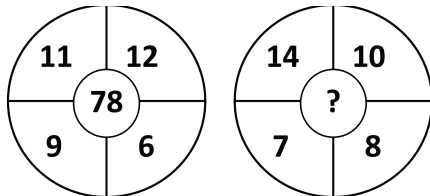
37 व्यक्तिगत भिन्नताओं के प्रभाव को कम करने में शिक्षक की क्या भूमिका होनी चाहिए?

- (A) शिक्षक को व्यक्तियों की आवश्यकताओं के अनुसार पाठ्यक्रम को समायोजित करने का प्रयास करना चाहिए।
(B) शिक्षक को छात्रों की क्षमताओं, योग्यताओं और रुचियों को समझने का प्रयास करना चाहिए।
(C) दोनों A और B
(D) न तो A और न ही B

- 38 एक बच्चे की भाषा का विकास _____ कारकों पर निर्भर करता है।
 (A) शैक्षिक (B) जैविक (C) सामाजिक (D) ये सभी
- 39 संज्ञानात्मक विकास के बारे में निम्नलिखित में से कौन सा कथन सही है?
 (A) यह उन गतिविधियों का प्रतिनिधित्व करता है जो पारंपरिक पद्धति से जुड़ी हैं।
 (B) यह तब फलता-फूलता है जब बच्चे को विविध और समृद्ध वातावरण दिया जाता है।
 (C) यह सहयोग की तुलना में व्यक्तिगत गतिविधियों पर अधिक ध्यान केंद्रित करता है।
 (D) यह अक्सर प्रासंगिक और अच्छी तरह से डिज़ाइन किए गए परीक्षणों के संचालन को बढ़ावा देता है।
- 40 मूल्यांकन का उद्देश्य है ...
 (A) सीखना वास्तव में हासिल किया गया है कि नहीं यह सुनिश्चित करना।
 (B) यह जानें कि बच्चे ने क्या सीखा है ?
 (C) यह कार्य के अंत में किया जाता है।
 (D) यह शिक्षक और सिखाई गई इकाई की आवश्यकताओं को पूरा करने वाली उद्देश्यपूर्ण गतिविधि है।
- 41 निम्नलिखित में से कौन सा कथन सही है?
 (A) रचनात्मक (फॉरमेटिव) मूल्यांकन योगात्मक (समेटिव) भी हो सकता है।
 (B) योगात्मक (समेटिव) मूल्यांकन रचनात्मक (फॉरमेटिव) मूल्यांकन जितना व्यापक नहीं है।
 (C) रचनात्मक (फॉरमेटिव) मूल्यांकन और योगात्मक (समेटिव) मूल्यांकन के बीच शायद ही कोई अंतर है।
 (D) उपरोक्त सभी।
- 42 स्कूल आधारित मूल्यांकन (SBA) _____ पर केंद्रित है।
 (A) सीखने में कमियों का निदान करने
 (B) उचित उपचारात्मक उपाय करने
 (C) सीखने के कौशल और दक्षताओं को लगातार विकसित करने
 (D) उपरोक्त सभी
- 43 निम्नलिखित में से कौन अति लघु उत्तरीय प्रश्नों की विशिष्ट विशेषता नहीं है?
 (A) इसे तुरंत उत्तर देने में सक्षम होना चाहिए।
 (B) उत्तर की सीमा पर शिक्षार्थी को निर्देशित किया जाना चाहिए।
 (C) उत्तर शिक्षार्थी द्वारा दिया जाना चाहिए, विकल्पों में से चयनित नहीं।
 (D) उपरोक्त में से कोई नहीं।
- 44 संगीत, तार्किक सोच या अवकाशीय क्षमता जैसी विशिष्ट क्षमताओं और कौशल के लिए छात्रों की क्षमता का आकलन करने के लिए एक परीक्षण को _____ कहा जाता है
 (A) उपलब्धि परीक्षण (B) योग्यता परीक्षण
 (C) कौशल परीक्षा (D) दक्षता (प्रॉफिशिएन्सी) परीक्षण
- 45 निम्नलिखित में से कौन सा एक वस्तुनिष्ठ प्रश्न है?
 (A) निबंध प्रकार प्रश्न (B) लघु उत्तरीय प्रश्न (C) ओपन एंडेड प्रश्न (D) सही या गलत
- 46 'सीखने के नियम' किसके द्वारा दिए गए थे?
 (A) पावलॉव (B) स्किनर (C) थॉर्नडाईक (D) कोह्लर

- 47 बाल-केंद्रित कक्षा में, बच्चे आम तौर पर सीखते हैं ...
 (A) मुख्य रूप से शिक्षक से (B) व्यक्तिगत रूप से
 (C) व्यक्तिगत रूप से और समूहों में (D) समूहों में
- 48 कक्षा में एक पाठ किसके द्वारा प्रस्तुत/शुरू किया जा सकता है?
 (A) प्रश्न पूछना (B) उदाहरण (C) कहानियाँ सुनाना (D) उपरोक्त सभी
- 49 सीखने के लिए सुदृढीकरण की अवधारणा पेश करने वाले पहले अमेरिकी मनोवैज्ञानिक कौन थे ?
 (A) बी.एफ. स्किनर (B) ई. एल. थॉर्नडाईक
 (C) ग्लिथेरिक (D) इनमें से कोई नहीं
- 50 एक शिक्षक एक पाठ और फलों और सब्जियों की कुछ तस्वीरों का उपयोग करता है और अपने छात्रों के साथ चर्चा करता है। छात्र विवरणों को अपने पिछले ज्ञान से जोड़ते हैं और पोषण की अवधारणा सीखते हैं। यह दृष्टिकोण पर आधारित है...
 (A) ज्ञान का निर्माण
 (B) सीखने की शास्त्रीय कंडीशनिंग
 (C) सुदृढीकरण का सिद्धांत
 (D) सीखने की संचालक (ऑपरेट) कंडीशनिंग
- 51 शिक्षक कभी भी प्रश्नों का उत्तर स्वयं नहीं देता। वह अपने छात्रों को उत्तर सुझाने, समूह चर्चा करने और सहयोगात्मक शिक्षा अपनाने के लिए प्रोत्साहित करता है। यह दृष्टिकोण _____ के सिद्धांत पर आधारित है।
 (A) सक्रिय भागीदारी
 (B) शिक्षण सामग्री का उचित संगठन
 (C) एक अच्छा उदाहरण स्थापित करना और एक रोल-मॉडल बनना
 (D) सीखने के लिए तत्परता
- 52 एनसीएफ 2005 के अनुसार, त्रुटियाँ महत्वपूर्ण हैं क्योंकि वे
 (A) छात्रों को 'उत्तीर्ण' और 'अनुत्तीर्ण' समूहों में वर्गीकृत करने में एक महत्वपूर्ण उपकरण है।
 (B) शिक्षक को बच्चों को डाँटने का एक तरीका प्रदान करता है।
 (C) बच्चे की सोच में अंतर्दृष्टि प्रदान करने और समाधान पहचानने में मदद करें।
 (D) कुछ बच्चों को कक्षा से हटाने के लिए मार्ग प्रदान करें।
- 53 एनसीएफ 2005 के अनुसार एक शिक्षक की भूमिका क्या होनी चाहिए?
 (A) तानाशाही (B) अनुज्ञावादी
 (C) सुविधाजनक (D) आधिकारिक
- 54 डिस्लेक्सिक बालक के बारे में कौन सा विकल्प सही है?
 (A) उनको गिनती में तकलीफ होती है। (B) उनका आईक्यू 60 से निम्न होता है।
 (C) उनको शब्दों के संबंध की तकलीफ होती है। (D) उनको सुनने के संबंध में तकलीफ होती है।
- 55 मनोविश्लेषण विचारधारा का विकास किसने किया था?
 (A) सिग्मंड फ्रायड (B) हैस आइसेक
 (C) ऑलपोर्ट (D) शैल्डन

56. लुप्त पदों को ज्ञात करके दी गई श्रृंखला को पूरा कीजिए।
1, 4, 27, 16, ?, 36, 343
(A) 25 (B) 87 (C) 120 (D) 125
57. लुप्त पदों को ज्ञात करके दी गई श्रृंखला को पूरा कीजिए।
2, 5, 9, ?, 20, 27
(A) 14 (B) 16 (C) 18 (D) 24
58. श्रृंखला में अगला पद कौन सा आता है ?
YEB, WFD, UHG, SKI, ?
(A) QOL (B) QGL
(C) TOL (D) QNL
59. सतर्क : सचेत :: व्यवहार्य : ?
(A) सक्रिय (B) निराशाजनक
(C) संभव (D) उपयोगी
60. चॉकलेट के लिए मीठा वैसा ही है जैसा कि किताब के लिए...
(A) शब्दकोश (B) पुस्तकालय
(C) इनसाइक्लोपीडिया (D) एटलस
61. वह शब्द चुनें जो समूह के अन्य शब्दों से कम-से-कम मेल खाता हो।
(A) ज़ेबरा (B) शेर
(C) बाघ (D) घोड़ा
62. अक्षरों का वह समूह चुनें जो दूसरों से भिन्न हो।
(A) POCG (B) KLIZ
(C) BUDX (D) FQMV
63. X ने Y का परिचय देते हुए कहा, “वह मेरे पिता के पिता की पोती का पति है।” Y से X का संबंध क्या है?
(A) भाई (B) जीजाजी
(C) बेटा (D) दामाद
64. “?” का मान ज्ञात कीजिए।



- (A) 74 (B) 84 (C) 94 (D) 104

65. '?' का मान ज्ञात कीजिए।

1	2	3
4	5	6
7	8	9
27	38	?

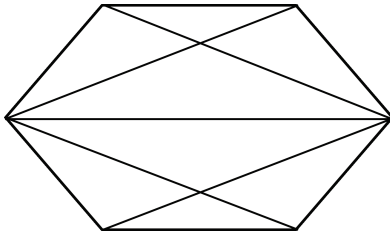
- (A) 49 (B) 50 (C) 51 (D) 52

66. छह लड़कों P, T, N, D, Q और R में सबसे लंबा कौन है?

- I. P, D और N से लंबा है लेकिन T जितना लंबा नहीं है
 II. R, Q से लंबा है लेकिन T जितना लंबा नहीं है
 III. Q, T और R से लम्बा नहीं है

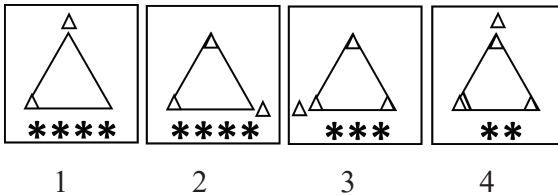
- (A) केवल I और II (B) केवल II और III
 (C) केवल I और III (D) सभी I, II, III

67. दी गई आकृति में चतुर्भुजों की संख्या ज्ञात कीजिए।



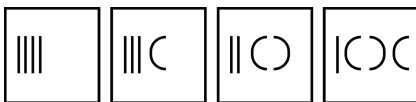
- (A) 6 (B) 7 (C) 9 (D) 11

68. दी गई श्रृंखला में क्रमशः आनेवाली आकृति ढूंढिए।



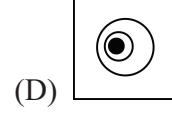
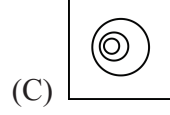
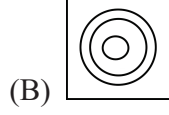
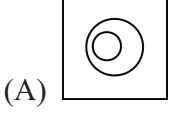
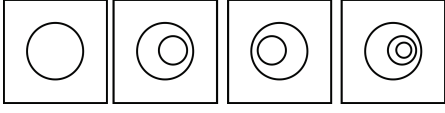
- (A) (B) (C) (D)

69. दी गई श्रृंखला में क्रमशः आनेवाली आकृति ढूंढिए।



- (A) (B) (C) (D)

70. દી ગઈ શ્રેણલા મેં ક્રમશઃ : આનેવાલી આકૃતિ ઢૂંઢિણ ।



71. ‘દોશી’ શબ્દનો અર્થ નીચે પૈકી કયો છે ?

(A) અપરાધી

(B) કાપડ વેચનારો

(C) વૃદ્ધ માતા

(D) વફાદાર

72. ‘મેં પાપણિયે પૂન્ય ન કીધું, તો ક્યાંથો આવો સ્વામી !’ - વાક્યમાં કઈ વિભક્તિ વપરાઈ છે ?

(A) તૃતીયા વિભક્તિ

(B) ષષ્ઠી વિભક્તિ

(C) પંચમી વિભક્તિ

(D) સપ્તમી વિભક્તિ

73. આપેલાં વાક્યોમાં સંભાવનાર્થ વાક્ય કયું છે ?

(A) પીએ નહિ કોઈ પંથી, હંસ નવ બેસે છે તીરે

(B) પીએ નહિ કોઈ પંથી, હંસ નવ બેઠેલ તીરે

(C) પીએ નહિ કોઈ પંથી, હંસ નવ બેઠું’તું તીરે

(D) પીએ નહિ કોઈ પંથી, હંસ નવ બેસશે તીરે

74. ઉદાર સ્થિતિને ઉજાશમાં બદલી નાંખવાના પ્રતીક તરીકે ‘સૂરજ’ નો ઉપયોગ કયા કાવ્યમાં થયો છે ?

(A) ચક્રવાદ મિથુન

(B) છપ્પા

(C) વનમાં ચાંદલિયો ઊગ્યો

(D) ચાંદામામા

75. સે’ પૂરવી રૂઢિપ્રયોગનો અર્થ શું થાય ?

(A) શરમ ભરવી

(B) મદદ કરવી

(C) શરમ આવવી

(D) હાજરી ભરવી

76. નીચે પૈકી કયું જોડકું સાચું છે ?

1. મણિશંકર રત્નજી ભટ્ટ

અ. ‘ધૂમકેતુ’

2. ગૌરીશંકર જોશી

બ. ‘કાન્ત’

3. જયશંકર ભોજક

ક. ‘સુંદરી’

4. ત્રિભુવનદાસ લુહાર

ડ. ‘સુંદરમ્’

(A) (1 - અ), (2 - બ), (3 - ક), (4 - ડ)

(B) (1 - બ), (2 - ક), (3 - ડ), (4 - અ)

(C) (1 - ક), (2 - બ), (3 - ડ), (4 - અ)

(D) (1 - બ), (2 - અ), (3 - ક), (4 - ડ)

77. નીચે પૈકી કયો શબ્દ ‘ઉત્તાન’ શબ્દનો સમાનાર્થી નથી ?

(A) પથરાયેલું

(B) ઉખાડેલું

(C) ફેલાયેલું

(D) છીછરું

78. ‘ભાણી’ કાવ્યનો સાહિત્ય પ્રકાર કયો છે ?

(A) ઊર્મિકાવ્ય

(B) સોનેટ

(C) અછાંદસ

(D) પદ

79. 'ખીલા' કાવ્યના કવિનું નામ શું છે ?
 (A) 'કાન્ત' (B) સુંદરમ્
 (C) પ્રિયકાન્ત મણિયાર (D) ઈજજતકુમાર ત્રિવેદી
80. નીચે પૈકી સાચી જોડણી કઈ છે ?
 (A) આઈડેન્ટીટી (B) આઈનેન્ટીટી
 (C) આઈડીન્ટી (D) આઈડેનટીટી
81. 'સહી નથી' ગઝલ કયા કાવ્યસંગ્રહમાંથી લીધી છે ?
 (A) 'જલન'માંથી (B) 'દીપ્તિ'માંથી
 (C) 'કુમાર'માંથી (D) 'પૂર્વાલાપ'માંથી
82. નીચે પૈકી સાચી જોડણી કઈ છે ?
 (A) ઉઘ્ઘૂખલ (B) ઉઘ્ઘૂખલ
 (C) ઉઘ્ઘૂખલ (D) ઉઘ્ઘૂખલ
83. 'મહેરબાની' શબ્દનો વિરોધી અર્થ ધરાવતો શબ્દ કયો છે ?
 (A) અપયશ (B) કૃપા
 (C) અવકૃપા (D) આજીજી
84. 'ખોદકામ કરવાનું તો ભોજા માટે સાવ સહેલું હતું.' વાક્યમાં લીટી દોરેલ શબ્દનો કૃદંતપ્રકાર જણાવો.
 (A) સંબંધક ભૂતકૃદંત (B) ભવિષ્યકૃદંત
 (C) વર્તમાનકૃદંત (D) હેત્વર્થ કૃદંત
85. 'જરૂરિયાત કરતાં વધું વાપરવું તે ચોરી છે એમ માની પાલન કરવું તે' શબ્દસમૂહ માટે એક શબ્દ શોધો.
 (A) અહિંસા (B) અસ્તેય
 (C) અપરિગ્રહ (D) અસ્વાદવ્રત
86. _____ poor in study Ritesh is, he will not copy answer from his neighbor.
 (A) However (B) So
 (C) Though (D) As
87. My house is located _____ the school. (Put proper preposition)
 (A) beside (B) besides
 (C) by (D) above
88. "Do you want to travel by the main train?" Turn into indirect.
 (A) The clerk asked did he want to travel by the mail train.
 (B) The clerk asked if he want to travel by the mail train.
 (C) The clerk asked if he wanted to travel by the mail train.
 (D) The clerk asked if he did want to travel by the mail train.
89. Dhyani sings as if she _____ Sunidhi Chauhan.
 (A) were (B) is
 (C) was (D) will be

90. Darshan is cleverer than _____ other boys in the classroom.
 (A) any (B) most
 (C) rest of (D) so many
91. An act of acknowledging an achiever is called _____.
 (A) facilitation (B) felicitation
 (C) euphemism (D) confrontation
92. Change the voice: Which player hits the wicket in every over ?
 (A) By which player does the wicket hit in every over ?
 (B) Which player is hit wicket in every over?
 (C) Which wicket is hit by the player in every over ?
 (D) By which player is the wicket hit in every over ?
93. Choose the correct sentence.
 (A) Ours is a new house.
 (B) A new house is our.
 (C) Our house are new.
 (D) Ours are new house.
94. Change the narration.
 "I'll have cup of coffee." My elder brother said, "because I'm not hungry."
 (A) My elder brother said that I would have a cup of coffee because I wasn't hungry.
 (B) My elder brother said that he would have a cup of coffee because he wasn't hungry.
 (C) My elder brother said that he will have a cup of coffee because he wasn't hungry.
 (D) My elder brother said that he would had a cup of coffee because he isn't hungry.
95. Choose the correct option.
- | A | B |
|------------|-------------|
| 1. contour | a. smell |
| 2. savour | b. eat |
| 3. devour | c. spoil |
| 4. defile | d. in curve |
- (A) 1 - a, 2 - b, 3 - d, 4 - c
 (B) 1 - d, 2 - a, 3 - b, 4 - c
 (C) 1 - b, 2 - c, 3 - d, 4 - a
 (D) 1 - c, 2 - a, 3 - b, 4 - c

96. Choose the proper question tag.
Sumit cuts a delicious cake on his birthday, _____ ?
(A) doesn't he (B) isn't he
(C) wasn't he (D) didn't he
97. Choose the correct spelling.
(A) potppori (B) potpourri
(C) pottpourri (D) potpouri
98. Select the word that is different from the other three words.
tranquility, serenity, calmness, restlessness
(A) calmness (B) tranquility
(C) restlessness (D) serenity
99. _____ grazing in the field.
(A) One of the deer is
(B) One of the deers are
(C) One of the deer are
(D) One of the deers is
100. Select one word for the following sentence.
A medical practitioner specializing in the diagnosis and treatment of skin disorders.
(A) Misogamist (B) Pediatric
(C) Ophthalmologist (D) Dermatologist



रफ कार्य हेतु

रफ कार्य हेतु

परीक्षा पूरी थया बाद उत्तरपत्र (OMR SHEET) अंड निरीक्षकने ढुल्लुं (कवरमां मुक्या वगर) परत कर्या बाद ञ परीक्षा अंड छुडवानु रडेशे. तेम करवामां कसूर थयेथी शिस्तअंगना पगलां गइी परीक्षा माटे ञे ते उमेदवारने गेरलायक ठेरववामां आवशे.